

EDIÇÃO | ABR-2026

APOSTILA

GEOGRAFIA

DO

TOCANTINS



PROFESSOR
JÚNIOR GEO
Deputado Estadual

POPULAÇÃO DO TOCANTINS / CENSO IBGE 2022

MUNICÍPIO	CENSO 2010	CENSO 2022
Abreulândia	2.391	2.576
Aguiarnópolis	5.162	4.497
Aliança do Tocantins	5.671	5.147
Almas	7.586	6.499
Alvorada	8.374	8.802
Ananás	9.865	10.325
Angico	3.175	2.876
Aparecida do Rio Negro	4.213	4.856
Aragominas	5.882	5.290
Araguacema	6.317	5.927
Araguaçu	8.786	8.133
Araguaína	150.484	171.301
Araguanã	5.030	4.310
Araguatins	31.329	31.918
Arapoema	6.742	5.550
Arraias	10.645	10.287
Augustinópolis	15.950	17.484
Aurora do Tocantins	3.446	3.342
Axixá do Tocantins	9.275	10.262
Babaçulândia	10.424	7.880
Bandeirantes do Tocantins	3.122	3.407
Barra do Ouro	4.123	4.476
Barrolândia	5.349	4.846
Bernardo Sayão	4.456	4.229
Bom Jesus do Tocantins	3.768	4.033
Brasilândia do Tocantins	2.064	1.974
Brejinho de Nazaré	5.185	4.725
Buriti do Tocantins	9.768	10.307
Cachoeirinha	2.148	1.961
Campos Lindos	8.139	8.653
Cariri do Tocantins	3.756	4.007
Carmolândia	2.316	2.201
Carrasco Bonito	3.688	3.318
Caseara	4.601	4.847
Centenário	2.566	2.131
Chapada de Areia	3.277	1.501
Chapada da Natividade	1.335	3.117
Colinas do Tocantins	30.838	34.233
Colméia	8.611	8.941
Combinado	4.669	4.756
Conceição do Tocantins	4.182	3.887
Couto de Magalhães	5.009	5.331
Cristalândia	7.234	6.371
Crixás do Tocantins	1.564	1.470
Darcinópolis	5.273	5.827
Dianópolis	19.112	17.739
Divinópolis do Tocantins	6.363	7.024
Dois Irmãos do Tocantins	7.161	6.327
Dueré	4.592	4.248
Esperantina	9.476	7.530
Fátima	3.805	3.467
Figueirópolis	5.340	5.211
Filadélfia	8.505	7.712
Formoso do Araguaia	18.427	18.881
Fortaleza do Tabocão	2.419	3.455
Goianorte	4.956	4.738
Goiatins	12.064	12.433
Guaraí	23.200	24.775
Gurupi	76.755	85.126
Ipueiras	1.639	1.590

MUNICÍPIO	CENSO 2010	CENSO 2022
Itacajá	7.104	6.819
Itaguatins	6.029	5.172
Itapiratins	3.532	3.577
Itaporã do Tocantins	2.445	2.404
Jaú do Tocantins	3.507	3.334
Juarina	2.231	2.243
Lagoa da Confusão	10.210	15.288
Lagoa do Tocantins	3.525	3.516
Lajeado	2.773	3.357
Lavandeira	1.605	1.626
Lizarda	3.725	2.999
Luzinópolis	2.622	2.717
Marianópolis do Tocantins	4.352	4.615
Mateiros	2.223	2.748
Maurilândia do Tocantins	3.154	3.095
Miracema do Tocantins	20.684	18.566
Miranorte	12.623	12.701
Monte do Carmo	6.716	5.694
Monte Santo do Tocantins	2.085	2.396
Muricilândia	3.152	3.367
Natividade	9.000	8.754
Nazaré	4.386	4.521
Nova Olinda	10.686	10.367
Nova Rosalândia	3.770	3.362
Novo Acordo	3.762	3.969
Novo Alegre	2.286	1.846
Novo Jardim	2.457	2.230
Oliveira de Fátima	1.037	1.164
Palmas	228.332	302.692
Palmeirante	4.954	4.798
Palmeiras do Tocantins	5.740	4.872
Palmeirópolis	7.339	6.975
Paraíso do Tocantins	44.417	52.360
Paraná	10.338	10.542
Pau D'Arco	4.588	4.043
Pedro Afonso	11.539	14.055
Peixe	10.384	9.317
Pequizeiro	5.054	4.921
Pindorama do Tocantins	4.506	4.478
Piraquê	2.920	2.282
Pium	6.694	7.128
Ponte Alta do Bom Jesus	4.544	4.220
Ponte Alta do Tocantins	7.180	7.586
Porto Alegre do Tocantins	2.796	2.866
Porto Nacional	49.146	64.418
Praia Norte	7.659	9.044
Presidente Kennedy	3.681	3.047
Pugmil	2.369	2.193
Recursolândia	3.768	3.421
Riachinho	4.191	3.960
Rio da Conceição	1.714	1.768
Rio dos Bois	2.570	2.738
Rio Sono	6.254	4.841
Sampaio	3.864	4.215
Sandolândia	3.326	3.723
Santa Fé do Araguaia	6.599	7.216
Santa Maria do Tocantins	2.894	2.680
Santa Rita do Tocantins	2.128	2.219
Santa Rosa do Tocantins	4.568	4.656
Santa Tereza do Tocantins	2.523	2.781
Santa Terezinha do Tocantins	2.474	2.406
São Bento do Tocantins	4.608	5.654

MUNICÍPIO	CENSO 2010	CENSO 2022
São Félix do Tocantins	1.437	1.783
São Miguel do Tocantins	10.481	13.241
São Salvador do Tocantins	2.910	2.385
São Sebastião do Tocantins	4.283	4.100
São Valério da Natividade	4.383	4.422
Silvanópolis	5.068	5.108
Sítio Novo do Tocantins	9.148	10.830
Sucupira	1.742	1.577
Taguatinga	15.051	14.011
Taipas do Tocantins	1.945	2.021
Talismã	2.562	2.456
Tocantínia	6.736	7.459
Tocantinópolis	22.619	22.615
Tupirama	1.574	1.909
Tupiratis	2.097	1.874
Wanderlândia	10.981	10.522
Xambioá	11.484	10.517
Total: Tocantins	1.383.445	1.511.459
Total: Região Norte	15.864.454	17.349.619
Total: Brasil	190.755.799	203.062.512

Fonte: IBGE. Instituto Brasileiro de Geografia e Estatística / Censo Demográfico <https://cidades.ibge.gov.br/>; <https://cidades.ibge.gov.br/brasil/to/panorama>

ÁREA, POSIÇÃO GEOGRÁFICA E LOCALIZAÇÃO

Segundo o IBGE o Tocantins conta atualmente com 277.423,627 km². O litígio que havia entre o Tocantins, Bahia e Piauí já foi julgado pelo STF, não havendo mais disputa judicial.

O Tocantins faz parte da Amazônia Legal e se encontra geopoliticamente na região norte do Brasil tendo divisa com seis Estados. O menor limite territorial ocorre com o Estado do Piauí e o maior com o Maranhão.

Limites

Norte: Maranhão e Pará

Sul: Goiás

Leste: Maranhão, Piauí e Bahia

Oeste: Pará e Mato Grosso Nordeste: Maranhão

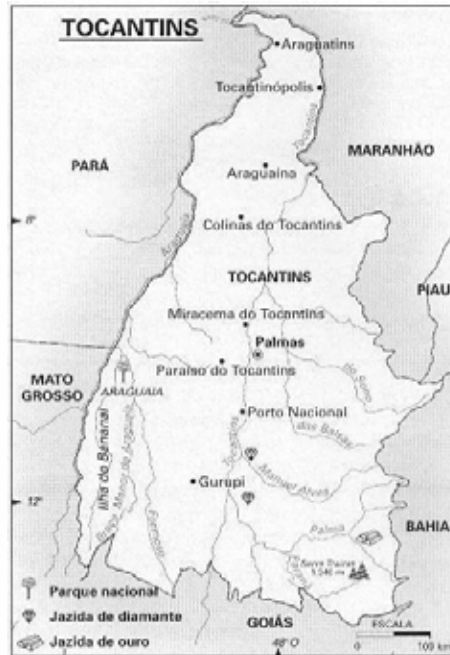
Sudeste: Bahia Noroeste: Pará Sudoeste: Mato Grosso.

Obs.: Há predominância de limite a norte com o Estado do Maranhão, mas ambos os estados se limitam a norte com o Tocantins: Maranhão e Pará.

Apesar de possuir características de clima e vegetação típicas da região centro-oeste, o Tocantins compõe a região norte do Brasil.

O motivo que levou a ser incorporado à região norte do país é devido à maior facilidade na obtenção de recursos federais.

Limites do Estado do Tocantins:



AMAZÔNIA LEGAL

O Tocantins está 97,93% inserido na Amazônia Legal, apesar de possuir apenas cerca de 10% da vegetação classificada como Floresta Amazônica.

O projeto de Lei 1278/07, do deputado federal Osvaldo Reis (PMDB-TO), exclui o Estado do Tocantins da área de abrangência da Amazônia Legal. A proposta altera a Lei 4.771/65, que define a Amazônia Legal. A intenção do deputado é permitir o desenvolvimento da pecuária bovina no Estado, sem os impedimentos legais relativos à existência de preservação da cobertura florestal vigentes para a Amazônia. Isso porque, fora da área da Amazônia Legal, os percentuais de preservação (Reserva Legal - RL) exigidos pelo poder público são menores.

Exemplo: Atualmente, em área florestal no Tocantins a área preservada (Reserva Legal - RL) é de, no mínimo, 80% da cobertura natural. Se a vegetação for de cerrado, por lei a área preservada (RL) deve se manter, no mínimo, 35%. Caso o projeto seja aprovado, a formação vegetal do Estado a ser preservada deve se manter em apenas 20%.

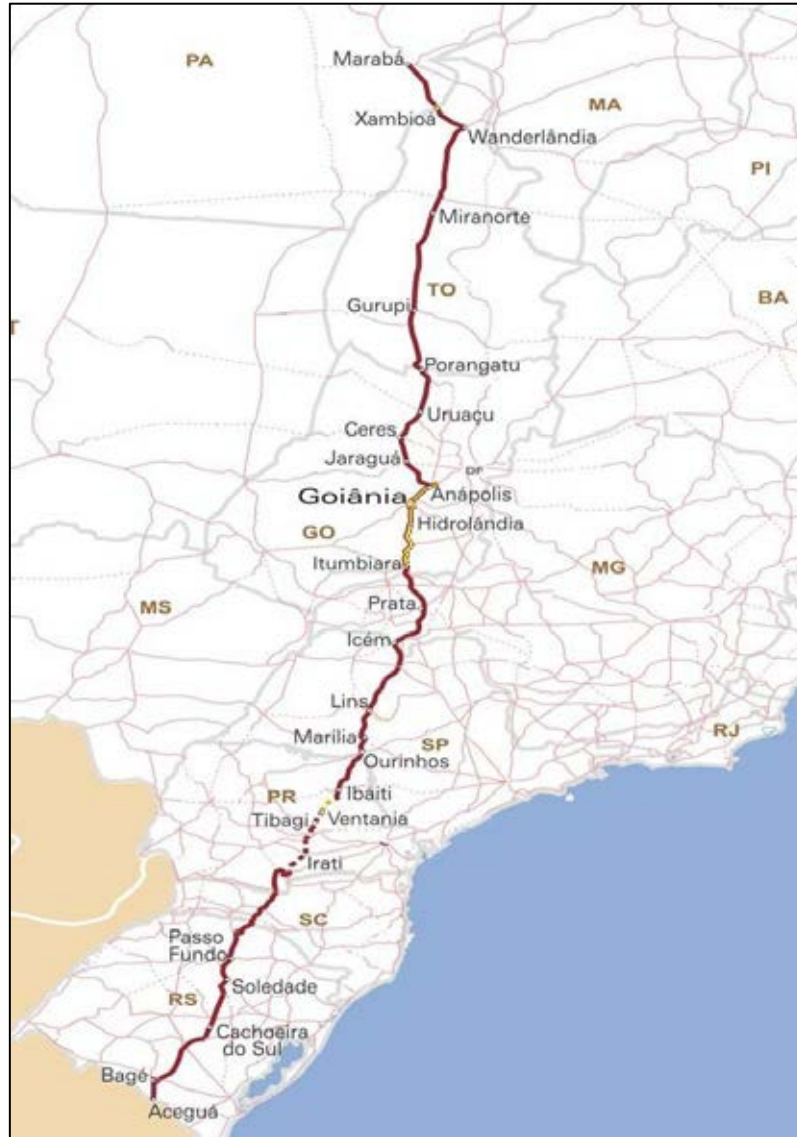
No entanto, a expansão da criação de gado no Cerrado é apontada por ambientalistas como um dos principais motivos do acelerado processo de devastação sofrido pelo bioma nos últimos anos.

RODOVIA BELÉM-BRASÍLIA OU BR-153?

“Apesar da semelhança fonética dos nomes das rodovias federais elas não são as mesmas. A rodovia Belém-Brasília é a BR-010 (liga Brasília a Belém), já a BR-153 é a Rodovia Transbrasiliana, a 5ª maior autopista brasileira, e faz ligação entre Marabá (PA) e Aceguá (RS), totalizando 4.355km de extensão.” (Trecho adaptado do Jornal Ecos do Tocantins – Rose Vidal - 02/08/2007)

O trecho da BR-010 corta o Tocantins principalmente a direita do rio Tocantins, passando pelos municípios de Paranã, Natividade, Silvanópolis, Palmas, Aparecida do Rio Negro, Rio Sono, Santa Maria, Itacajá e Goiatins. Em alguns momentos a mesma se confunde com o trecho da TO-050, no que tange ao percurso entre Príncipe e Silvanópolis. O desconhecimento da mesma se dá em função de boa parte desta rodovia ser em trecho ainda sem asfalto e, portanto, pouco utilizada no Estado.

Percebam a diferença de localização da BR-153 e da BR-010.



Localização da Rodovia BR-153

A BR-153 foi durante décadas a principal via de acesso entre Belém e a capital federal, sendo daí denominada popularmente como rodovia Belém-Brasília, acentuando assim a confusão sobre a mesma.

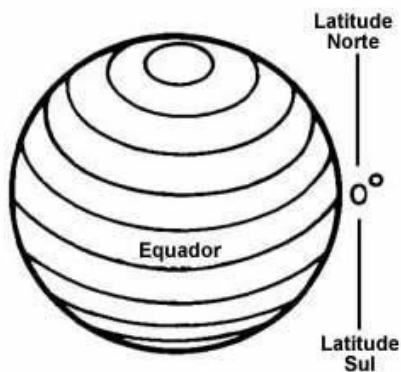


Localização da Rodovia BR-010

COORDENADAS GEOGRÁFICAS


Latitude: distância medida em graus a partir da Linha do Equador, varia de 0° a 90° no sentido norte ou sul.

Tocantins: varia entre 5° e 13° sul



Longitude: distância medida em graus a partir do meridiano de Greenwich, varia de 0° a 180°, no sentido leste ou oeste.

Tocantins: varia entre 45°44' e 50°44' oeste.



PONTOS EXTREMOS

Norte: Ilha do Braz (São Sebastião do Tocantins) 5°10' de latitude sul.

Sul: Serra das Traíras ou das Palmas (Paranã) 13°27' de latitude sul.

Leste: Serra da Tabatinga (Mateiros) 45°44' de longitude oeste.

Oeste: Parque Nacional do Araguaia (Ilha do Bananal) 50°44' de longitude oeste.

REGIÕES GEOGRÁFICAS DO TOCANTINS

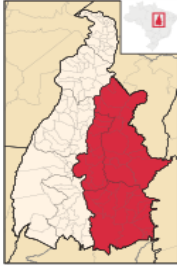
Esta é a lista de mesorregiões e microrregiões do Tocantins, estado brasileiro da Região Norte do país. O estado do Tocantins foi dividido geograficamente pelo IBGE em duas mesorregiões, que por sua vez abrangiam oito microrregiões, segundo o quadro vigente entre 1989 e 2017.

Em 2017, o IBGE extinguiu as mesorregiões e microrregiões, criando um novo quadro regional brasileiro, com novas divisões geográficas denominadas, respectivamente, regiões geográficas intermediárias e imediatas.

ATENÇÃO: É importante ressaltar que, mesmo após extinta as mesorregiões e microrregiões desde 2017, esta classificação ainda vem sendo cobradas nas provas.

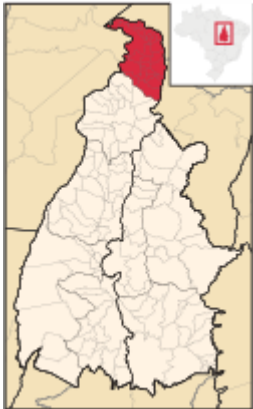
Mesorregiões do Tocantins

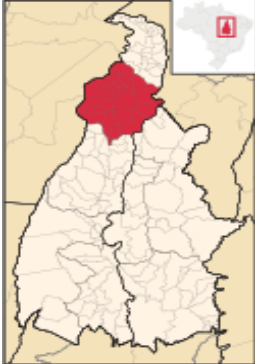
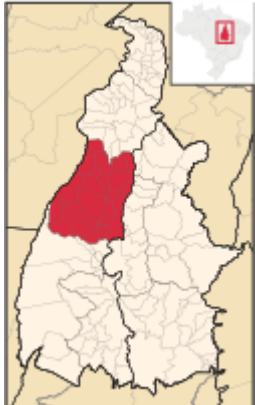
Mesorregião	Código	Número de municípios	Localização	Microrregiões	Código
Ocidental do Tocantins	01	93		Bico do Papagaio	001
				Araguaína	002
				Miracema do Tocantins	003
				Rio Formoso	004
				Gurupi	005

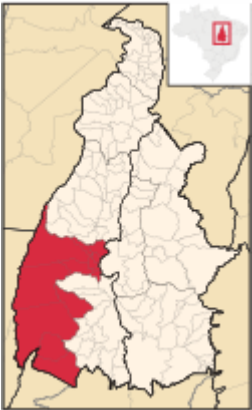
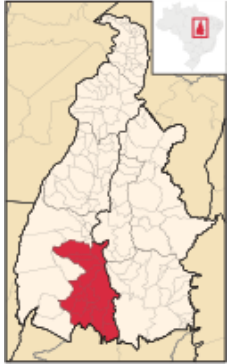
Mesorregião	Código	Número de municípios	Localização	Microrregiões	Código
Oriental do Tocantins	02	46		Porto Nacional	006
				Jalapão	007
				Dianópolis	008

Microrregiões do Tocantins divididas por mesorregiões:

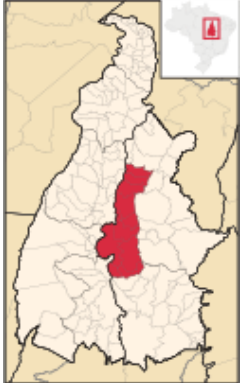
Mesorregião Ocidental do Tocantins

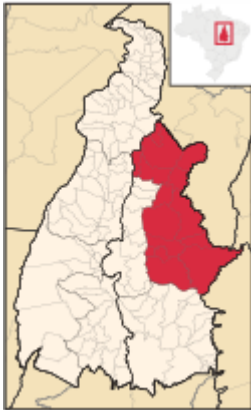
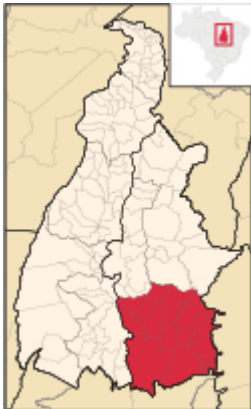
Microrregião	Código	Localização	Municípios
Bico do Papagaio	001		Aguiarnópolis
			Ananás
			Angico
			Araguatins
			Augustinópolis
			Axixá do Tocantins
			Buriti do Tocantins
			Cachoeirinha
			Carrasco Bonito
			Darcinópolis
			Esperantina
			Itaguatins
			Luzinópolis
			Maurilândia do Tocantins
			Nazaré
			Palmeiras do Tocantins
			Praia Norte
			Riachinho
			Sampaio
			Santa Terezinha do Tocantins
São Bento do Tocantins			
São Miguel do Tocantins			
São Sebastião do Tocantins			
Sítio Novo do Tocantins			
Tocantinópolis			

Microrregião	Código	Localização	Municípios
Araguaína	002		Aragominas
			Araguaína
			Araguanã
			Arapoema
			Babaçulândia
			Bandeirantes do Tocantins
			Carmolândia
			Colinas do Tocantins
			Filadélfia
			Muricilândia
			Nova Olinda
			Palmeirante
			Pau-d'Arco
			Piraquê
			Santa Fé do Araguaia
Wanderlândia			
Xambioá			
Miracema do Tocantins	003		Abreulândia
			Araguacema
			Barrolândia
			Bernardo Sayão
			Brasilândia do Tocantins
			Caseara
			Couto de Magalhães
			Divinópolis do Tocantins
			Dois Irmãos do Tocantins
			Fortaleza do Tabocão
			Goianorte
			Guaraí
			Itaporã do Tocantins
			Juarina
			Marianópolis do Tocantins
			Miranorte
			Monte Santo do Tocantins
			Pequizeiro
			Presidente Kennedy
			Rio dos Bois
Tupirama			
Tupiratins			

Microrregião	Código	Localização	Municípios
Rio Formoso	004		Araguaçu
			Chapada de Areia
			Cristalândia
			Dueré
			Fátima
			Formoso do Araguaia
			Lagoa da Confusão
			Nova Rosalândia
			Oliveira de Fátima
			Paraíso do Tocantins
			Pium
			Pugmil
			Sandolândia
Gurupi	005		Aliança do Tocantins
			Alvorada
			Brejinho de Nazaré
			Cariri do Tocantins
			Crixás do Tocantins
			Figueirópolis
			Gurupi
			Jaú do Tocantins
			Palmeirópolis
			Peixe
			Santa Rita do Tocantins
			São Salvador do Tocantins
			Sucupira
			Talismã

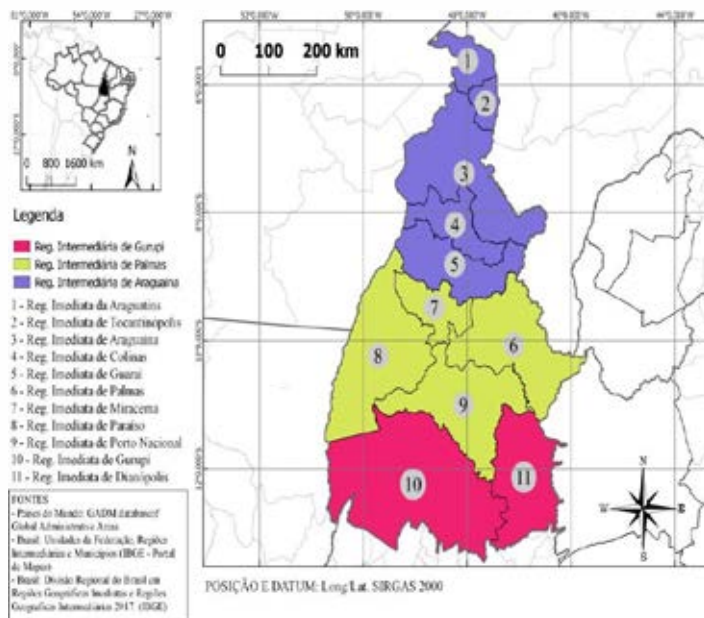
Mesorregião Oriental do Tocantins:

Microrregião	Código	Localização	Municípios
Porto Nacional	006		Aparecida do Rio Negro
			Bom Jesus do Tocantins
			Ipueiras
			Lajeado
			Monte do Carmo
			Palmas
			Pedro Afonso
			Porto Nacional
			Santa Maria do Tocantins
			Silvanópolis
			Tocantínia

Microrregião	Código	Localização	Municípios
Jalapão	007		Barra do Ouro
			Campos Lindos
			Centenário
			Goiatins
			Itacajá
			Itapiratins
			Lagoa do Tocantins
			Lizarda
			Mateiros
			Novo Acordo
			Ponte Alta do Tocantins
			Recursolândia
			Rio Sono
			Santa Tereza do Tocantins
São Félix do Tocantins			
Dianópolis	008		Almas
			Arraias
			Aurora do Tocantins
			Chapada da Natividade
			Combinado
			Conceição do Tocantins
			Dianópolis
			Lavandeira
			Natividade
			Novo Alegre
			Novo Jardim
			Paraná
			Pindorama do Tocantins
			Ponte Alta do Bom Jesus
			Rio da Conceição
			Santa Rosa do Tocantins
São Valério			
Taguatinga			
Taipas do Tocantins			

Com o avanço das pesquisas e economia regional e a formação de cidades em redes, o IBGE reformulou a espacialidade do território brasileiro e, 2017. A figura a baixo mostra a nova divisão territorial do Tocantins feita pelo IBGE (2017) com suas respectivas regiões intermediárias e imediatas.

Divisão espacial das regiões intermediárias e imediatas do Tocantins, segundo a nova regionalização do IBGE, 2017



MUNICÍPIOS

O Estado contava apenas com 60 municípios instalados no ato de sua criação e mais 19 municípios já criados pelo governo de Goiás. Dois destes 19 municípios foram instalados em 01/01/1989: São Valério de Natividade e Aliança do Tocantins. Com o passar dos anos novos municípios foram sendo criados e instalados e em 1º de janeiro de 1997 totalizam-se os atuais 139 municípios em Tocantins.

Em 01/01/1989 foi assinado decreto de lei onde todos os municípios cujos nomes obtivessem a terminologia “do norte” ou “de Goiás” passariam a se chamar “do Tocantins”. Ex.: Paraíso do Norte = Paraíso do Tocantins.

Os municípios de menor e maior extensão territorial são, respectivamente: (fonte IBGE)

- Axixá do Tocantins – 150,214 km².
- Formoso do Araguaia– 13.423,256 km².

REPRESENTAÇÃO POLÍTICA

Senadores: 3
 Deputados Federais: 8
 Deputados Estaduais: 24

Governadores e Vices

- **1º/jan/1989 a 15/mar/1991:** José Wilson Siqueira Campos e Darci Martins Coelho.
- **15/mar/1991 a 1º/jan/1995:** Moisés Nogueira Avelino e Paulo Sidney Antunes.
- **01/jan/1995 a 04/abril/1998:** José Wilson Siqueira Campos e Raimundo Nonato Pires dos Santos.
- **04/abril/1998 a 1º/jan/1999:** Raimundo Nonato Pires dos Santos (devido ao afastamento de Siqueira Campos para pleitear a reeleição).
- **1º/jan/1999 a 1º/jan/2003:** José Wilson Siqueira Campos e João Lisboa da Cruz.

- **1º/jan/2003 a 1º/jan/2007:** Marcelo Miranda e Raimundo Nonato Pires dos Santos.
- **1º/jan/2007 a 09/09/2009:** Marcelo Miranda e Paulo Sidnei (devido à cassação do mandato pelo STE).
- **09/09/2009 a 08/10/2009:** Carlos Henrique Amorim (Gaguim) – (em regime interino).
- **09/10/2009 a 31/12/2010:** Carlos Henrique Amorim se torna o primeiro governador eleito por voto indireto, onde ocorreu apenas uma abstenção (deputado Toinho Andrade).
- **01/01/2011 a 04/04/2014:** José Wilson Siqueira Campos e João Oliveira. Governador e vice renunciam aos seus cargos. O presidente da Assembleia, Sandoval Cardoso assume interinamente e em 04/05 torna-se governador via eleição indireta.
- **04/05 a 31/12/2014:** Sandoval Cardoso e Tom Lyra.
- **31/12/2014 a 18/04/2018:** Marcelo de Carvalho Miranda e Cláudia Lélis.
- **19/04/2018 a 31/12/2018:** Mauro Carlesse e Wanderlei Barbosa.
- **01/01/2019 a 20/10/2021:** Mauro Carlesse e Wanderlei Barbosa. (*)
- **20/01/2021 a 31/12/2022:** Wanderlei Barbosa Castro.
- **01/01/2023 a 31/12/2026:** Wanderlei Barbosa Castro e Laurez da Rocha Moreira. **Governador Wanderlei Barbosa Castro afastado pelo STJ. Entenda! (**)**
Wanderlei Barbosa Castro retorno da titularidade do mandato pelo STJ. Entenda! (*)**

(*) Após ser afastado por unanimidade pelo pleno do STJ (Superior Tribunal de Justiça) é aberto o pedido de impeachment na Assembleia Legislativa. Após a votação em 1º turno pela Comissão Especial de Impeachment onde por unanimidade os deputados estaduais acompanharam o parecer do relator (Deputado Professor Júnior Geo) pela continuidade do processão de cassação, o governador afastado Mauro Carlesse protocola pedido de renúncia na Assembleia Legislativa em 11 de março de 2022 ao cargo de governador do estado do Tocantins.

(**) No dia 3 de setembro de 2025, a Corte Especial do Superior Tribunal de Justiça (STJ) decidiu, por unanimidade, confirmar o afastamento cautelar do governador do Tocantins, Wanderlei Barbosa, por 180 dias. A decisão foi tomada no contexto de um inquérito que investiga o desvio de recursos públicos na compra de cestas básicas durante a pandemia de Covid-19. Com o afastamento do governador, o cargo foi assumido pelo vice-governador, Laurez da Rocha Moreira, a partir da data mencionada acima até momento atual.

(***) No dia 11 de dezembro de 2025, a Segunda Turma do Supremo Tribunal Federal (STF) deliberou pela revogação da medida cautelar de afastamento anteriormente imposta, confirmando o retorno de Wanderlei Barbosa ao exercício do cargo de Governador do Estado do Tocantins. A decisão restabeleceu o pleno exercício das funções institucionais do Chefe do Poder Executivo Estadual, encerrando o afastamento que havia sido determinado no âmbito de investigação em trâmite perante o Superior Tribunal de Justiça, com o consequente retorno da titularidade do mandato eletivo ao referido governador.

DATAS IMPORTANTES

- **18/03/1809:** Autonomia do Tocantins, quando, por intermédio de Teotônio Segurado, Dom João VI criou a Comarca de São João das Duas Barras, ocorrendo assim o primeiro passo de emancipação do norte goiano que durou poucos.
- **05/10/1988:** Criação do Estado.
- **15/11/1988:** 1ª eleição para governo estadual, promovida pelo TRE de Goiás.
- **1º/jan/1989:** Data de instalação do Estado.
- **20/05/1989:** Lançamento da Pedra Fundamental de Palmas (data em que se comemora o aniversário da capital).
- **01/01/1990:** Instalação de Palmas como capital do Estado, ocorrendo a transferência da sede do governo estadual da capital provisória, Miracema do Tocantins.

SÍMBOLOS

Bandeira



Instituída pela lei 094/89, de 17 de novembro de 1989, na primeira Constituição do Estado do Tocantins, a Bandeira do Estado é constituída de um desenho simples e despojado.

Os vértices superiores esquerdo e inferior direito são dois triângulos retângulos, nas cores azul e amarelo ouro, respectivamente. A barra resultante dessa divisão, em branco, está carregada com um sol estilizado de amarelo ouro, com oito pontas maiores e 16 pontas menores.

Significados

Faixa superior azul: representa o elemento água.

Faixa branca ao centro: simboliza a paz.

Faixa amarela na parte inferior: rico solo tocantinense.

Sol no centro da bandeira: O sol nasce para todos, derrama seus raios sobre o futuro do novo Estado.

Obs: em provas anteriores já foi considerada como resposta apenas o trecho “O sol nasce para todos”.

Brasão ou Selo

Brasão de Armas



Criado pela lei 092/89, de 17 de novembro de 1989, publicada na primeira Constituição do Estado do Tocantins, o Brasão de Armas do Estado é um escudo elíptico, preenchido na metade superior pela cor azul e carregado com a metade de um sol de ouro estilizado, do qual se vê em cinco raios maiores e oito menores, limitados na linha divisória. A metade inferior do escudo é uma asna azul, ladeada nos flancos direito e esquerdo de branco e no termo de amarelo ouro.

Sob o escudo, lista azul com a inscrição "Estado do Tocantins" e a data "1º de janeiro de 1989", em letras brancas, fazendo referência à data de instalação do Estado.

Em timbre, uma estrela de amarelo ouro com borda azul, encimada pela expressão em tupi "CO YVY ORE RETAMA", que significa em português "Esta terra é nossa", escrita em sobre listel azul.

Significados

O sol amarelo, do qual se vê apenas a metade despontando no horizonte contra o azul do firmamento, é a imagem idealizada ainda nos primórdios da história do novo Estado, quando sua emancipação mais parecia um sonho inatingível. Simboliza o Estado nascente. A asna em azul, cor do elemento água, representa a confluência dos rios Araguaia e Tocantins, fonte perene de riquezas e recursos hidroenergéticos. Os campos em amarelo e branco lembram, respectivamente, o rico solo tocantinense e a paz desejada para o Estado.

Significados

CO YVY ORE RETAMA: Esta Terra é Nossa

Duas faixas azuis que se encontram abaixo do sol: encontro dos rios Tocantins e Araguaia, fonte perene de riquezas e recursos hidroenergéticos.

A cor amarela entre as duas faixas azuis: a riqueza do solo tocantinense.

O sol nascendo ao centro: é a imagem idealizada, ainda nos primórdios da história do novo Estado, quando sua emancipação mais parecia um sonho distante e inatingível. *Simboliza o Estado nascente, uma grandeza que surge e cujo futuro se ergue promissor e fecundo.*

A estrela em amarelo: representa a condição do Estado do Tocantins como uma das unidades da Federação Brasileira.

A coroa de louros: é uma homenagem e reconhecimento ao valor dos tocantinenses cujo esforço transformou o sonho tão longínquo de emancipação na mais viva realidade.

Obs: em provas anteriores o significado do sol nascendo ao centro foi considerada como resposta "Um futuro iluminado," porém "O ESTADO NASCENTE", que se refere à emancipação política do Tocantins é a alternativa correta a ser considerada.

HINO DO TOCANTINS

Lei nº 977, de 30 de abril de 1998

Letra: Liberato Costa Póvoa

Música: Abiezer Alves da Rocha

Hino Popular:

(Hino ao Tocantins)

Lei nº 1.367, de 31 de dezembro 2002

Letra e Música: Genésio Tocantins

SÍMBOLOS NATURAIS

Lei nº 915, de 15 de julho de 1997

Ave: Arara Amarela ou Canindé e *Rolinha Fogo Apagou (DOE Agosto de 2012)*

Pedra: Granada

Flor: Girassol

Árvore: Fava de Bolota

POPULAÇÃO

Obs.: dados sobre o Censo 2022 nas páginas 01 a 03.

Resultados do Censo 2022, divulgados pelo Instituto Brasileiro de Geografia e Estatística (IBGE), revelam que o Tocantins tem hoje uma população de 1.511.459 habitantes. Na comparação com o último censo geral, realizado em 2010, a população tocaninense cresceu 9,25%, apenas 2,75 ponto percentual acima da média nacional, que é 6,5%, e apenas 0,11 ponto porcentual abaixo da média da região Norte do País, que tem uma taxa de crescimento de 8,54%.

Expectativa de vida (Censo 2022)

Tocantins: 71,6 anos – homem (72,08 anos) e mulher (78,33 anos)

Brasil: 77 anos.

População urbana: 78,8%

Média nacional: 81%

O Tocantins é um Estado jovem não apenas pela idade, também pela faixa etária de sua população, uma vez que os imigrantes vieram para tentar a vida, crescer com o Estado e com a capital.

Percentual de população:

Masculina: 50,1%

Feminina: 49,9%

Urbanização:

População estimada 2021: 1.607.363 pessoas

- *Censo 2022: 1.511.459*

- *Área (km²): 277.423,627*

Densidade demográfica: 5,45 hab/km²

Número de Municípios: 139

<https://cidades.ibge.gov.br/brasil/to/panorama>

Maiores cidades: *Censo IBGE 2010 / Censo IBGE 2022*

Palmas: 228.332 hab. / 302.692 habitantes.

Araguaína: 150.484 hab. / 171.301 habitantes.

Gurupi: 76.755 hab. / 85.126 habitantes.

Porto Nacional: 49.146 hab. / 64.418 habitantes.

Paraíso do TO: 44.417 hab. / 52.360 habitantes.

Principais imigrantes: Maranhão, Pará e Goiás.

IDH

O IDH foi criado para medir o nível de desenvolvimento humano dos países a partir de indicadores de educação, long euidade (expectativa de vida) e renda (PIB per capita). Seus valores variam de zero (nenhum desenvolvimento humano) a 1 (desenvolvimento humano total). Países com IDH até 0,499 são considerados de desenvolvimento humano baixo; com índices entre 0,500 e 0,799 são considerados de desenvolvimento humano médio; e com índices maiores que 0,800 são considerados de desenvolvimento humano alto.

Segundo o IBGE em 2021, o IDH de Tocantins era de 0,731, ficando na posição 13^a no ranking brasileiro entre os 27 estados.

Na lista dos dez municípios da região norte do país com maior IDH, segundo o IBGE 2010, Palmas é a 2^a colocada com 0,800 (considerado IDH alto), seguida por Gurupi (0,793) como 3^a colocada e Paraíso (0,777) a 6^a colocada são os municípios tocaninenses que se encontram entre os dez melhores posicionados.

O PIB per capita do Tocantins se encontra à frente apenas do Piauí e Maranhão, possui uma renda per capita de R\$7.704 (IBGE 2011).

Obs.: as três regiões mais carentes do Estado são o Bico do Papagaio, o Jalapão e a região sudeste. São Félix do Tocantins – Jalapão - em 2006, foi divulgado pelo IBGE como o município de menor renda per capita do Brasil. Campos Lindos encabeça a lista dos municípios de menor renda per capita do país divulgada em dezembro de 2008, referente ao ano de 2007.

POVOS INDÍGENAS

Segundo a FUNAI (2010), totalizam em Tocantins 14.118 indígenas, dentre os quais 11.560 dentro da reserva e 2.558 fora da reserva indígena.

POVOS	LOCALIZAÇÃO
1.Apinajé ¹	Tocantinópolis, Maurilândia, Cachoeirinha e São Bento*
2.Xambioá	Santa Fé do Araguaia
3.Krahô	Goiatins e Itacajá
4.Xerente	Tocantínia
5.Krahô-Canela	Lagoa da Confusão
6.Karajá	Ilha do Bananal ²
7. Javaé	Ilha do Bananal ²
8. Avá-Canoeiro	Ilha do Bananal
9.Pankararu	Gurupi ³

¹ Existem indígenas Apinajé (Apinayé) em São Bento, apesar da reserva indígena não envolver esse município.

² A Ilha do Bananal é dividida entre três municípios tocantinenses: Pium, Lagoa da Confusão e Formoso do Araguaia.

³ Não possuem reserva demarcada pela Funai, existe uma luta pela demarcação no município de Figueirópolis.

No Tocantins, a população dos povos originários soma **20.023** pessoas autodeclaradas indígenas, representando 1,32% da população total do Estado, de acordo com dados divulgados pelo Instituto Brasileiro de Geografia e Estatística (IBGE), resultados do censo 2022.

Distribuição da população:

A maioria dessa população, 15.213 (75,9%) vive em terras indígenas, enquanto 4.810 (24%) reside fora delas. Isso representa mais que a média nacional, sendo 36,7% vivendo em territórios e 63,2% não. O Tocantins ficou em 2º lugar, atrás do Mato Grosso, com 77,3%. Tocantínia se destaca sendo o município com a maior população indígena.

PROCESSO DE DEMARCAÇÃO DE RESERVAS

A FUNAI nomeia um antropólogo com qualificação reconhecida para elaborar estudo de identificação em prazo determinado. Este estudo fundamenta o trabalho do grupo técnico especializado, que realiza estudos complementares sociológicos, jurídicos, cartográficos, etnológicos e ambientais. Além de fazer levantamento fundiário para delimitar a terra indígena.

MPF consegue que Justiça estabeleça prazo de um ano para demarcação de terras da etnia Avá-Canoeiro

No mês de outubro, a Justiça Federal estabeleceu o prazo de um ano, para que a Fundação Nacional do Índio (Funai) conclua a demarcação da terra indígena Taego Áwa, onde vive o grupo da etnia Avá-Canoeiro do Rio Araguaia, próximo à Ilha do Bananal. São mais de 28 mil hectares destinados para a demarcação da reserva, porém até o início de 2021 o governo federal ainda não havia concluído a determinação da justiça federal.

ETNIAS

O Tocantins possui “nove” etnias: Karajá, Karajá- Xambioá e Javaé (Povo Iny); Xerente, Apinajé, Krahô, Krahô-Canela, Avá-Canoeiros e Pankararu no Tocantins. Esses indígenas estão distribuídos em mais de 82 aldeias, perfazendo uma população de aproximadamente 14 mil indígenas. Os Karajá situam-se na Ilha do Bananal. Os Javaé vivem às margens do rio Javaé. Os Xambioá/Karajá estão localizados na Reserva Xambioá, município de Santa Fé do Tocantins. Os Xerente vivem na margem direita do rio Tocantins, próximo à cidade de Tocantínia, nas reservas Indígenas Xerente e Funil.

Na região norte do Estado, em Tocantinópolis, Maurilândia e Cachoeirinha, vive o povo Apinajé, na Reserva Indígena Apinajé. As aldeias Krahô são situadas na região de Itacajá e Goiatins. A aldeia Krahô-Canela fica no oeste do Tocantins, na Reserva Mata Alagada, no município de Lagoa da Confusão. Os Pankararu inicialmente situaram-se na cidade de Figueirópolis, no Assentamento Mata Verde e posteriormente concentrados principalmente no município de Gurupi. Os indígenas Xerente compõem a povo mais numerosa, e a povo menos numerosa os Avá-Canoeiro.

APINAJÉ ou APINAYÉ

Os primeiros registros do povo Apinayé, na região onde vive hoje, vêm de 1774. Em 1780, foi criado o primeiro posto militar em Alcobaça para tentar conter os Apinayés que eram conhecidos como grandes guerreiros, os poderosos indígenas da região Norte.



O avanço da colonização sobre as terras dos Apinayés teve início em 1797, com a tentativa do governo de incentivar o povoamento da região. Segundo dados do Conselho Indígena Missionário (CIMI), em 1780, 600 indígenas do povo Apinayé trabalhavam na agricultura, na criação de gado e na navegação fluvial para o Pará e outros viviam em torno da cidade. Na contagem seguinte, por volta de 1880, havia 1.362 na aldeia Boa Vista, atual Tocantinópolis.

A população, em 2012, era de 1.900 indivíduos, distribuídos em sete aldeias, numa área demarcada de 141.904 hectares, nos municípios de Tocantinópolis, Maurilândia e Cachoeirinha. O povo Apinayé tradicionalmente planta milho, mandioca, amendoim, feijão, batata doce e inhame e faz a coleta de andu, pequi, buriti, bacaba, bacuri, babaçu, açaí, murici, tucum e palmito que complementam a alimentação.

A coleta de babaçu, artesanato, pesca e agricultura de subsistência é a base da economia deste povo.

Dentre as comemorações da aldeia Apinayé está a Festa do Mekapri -, realizada para fazer o espírito voltar para o corpo da pessoa que está doente; o ritual de morte e enterro e o de casamento, onde os noivos são enfeitados nas casas maternas com pinturas de urucum, jenipapo e lâ de pati.

KRAHÔ

A população Krahô no Tocantins é de aproximadamente 2.612 habitantes que moram na região de Itacajá e Goiatins, nordeste do Estado, pertencentes ao tronco Macro-Jê. No final do século XVIII, os Krahôs habitavam a região do sul do Maranhão, quando foram registrados os primeiros contatos com a frente de colonização. Eles então recuaram para a margem direita do rio Tocantins, entre os rios Farinha e Manuel Alves, onde hoje é a cidade de Carolina (MA).



Os Krahôs viveram na aldeia de Boa Vista do Tocantins, fundada pelo frei Francisco do Monte São Vitor, em 1841, no município do mesmo nome. Dez anos mais tarde, havia nessa aldeia 2.822 indígenas, entre Apinayés e Krahôs.

Os Krahôs possuem dois partidos, ou duas metades. O Katam jê (que representa o inverno), e o Wakme Jê (que representa o verão). Segundo a tradição, essas forças, que estão presentes em tudo, é que regem a natureza e o homem. Eles acreditam que todos os seres, animais, vegetais ou minerais, possuem alma, conhecida como karõ – que pode afastar-se do corpo. Quando morre um krahô, acontece a separação definitiva e depois o kraõ se transforma em animal. O menino Krahô recebe o nome geralmente de seu tio materno, enquanto a menina quase sempre da tia paterna.

A Festa da Batata (panti) celebra a colheita e é realizada durante o verão, quando existe comida suficiente para alimentar todos que participarão dos rituais. A Corrida de Toras tem participação de homens e mulheres que correm com toras de buriti especialmente preparadas para cada tipo de festa. Os grupos que correm representam os dois partidos, o do sol nascente e o do sol poente. Na Festa do Milho (pônhê), os Krahôs comemoram a fartura das roças.

XERENTE

Akwê: "gente importante, indivíduo". O povo que assim se denomina vive na margem direita do rio Tocantins, perto da cidade de Tocantínia, nas reservas indígenas Xerente e Funil. Pertencente ao grupo linguístico Macro-Jê, vive da agricultura tradicional na roça de toco, planta milho, arroz, mandioca e utiliza a lavoura mecanizada em pequena escala.

Segundo a Fundação Cultural do Tocantins, a população Xerente atual é de aproximadamente 3.108 indivíduos. Eles têm buscado outras fontes de renda. A confecção e a venda de artesanato - cestaria, bordunas, arcos e flechas e colares, dentre outras peças - são uma das principais atividades desenvolvidas pelo grupo, já que a matéria-prima utilizada (fibras de buriti, sementes de capim-navalha, palhas de coco, capim-dourado) é acessível a toda a população.

Atualmente, parte da população xerente obtém recursos financeiros em cargos exercidos junto à Funai (motoristas, ajudantes de postos), ao Estado (professores indígenas, agentes de saúde) ou provenientes da aposentadoria dos mais velhos.

KRAHÔ-CANELA

Expropriados de sua terra na década de 70, os indígenas Krahô-Canela permaneceram por muito tempo no descaso do governo federal sobrevivendo na Casa do Índio em Gurupi. A assinatura do decreto presidencial que saiu no Diário Oficial da União no dia 08 de dezembro de 2006 reconhece os imóveis rurais destinados a assentar o povo indígena Krahô-Canela, no município de Lagoa da Confusão (TO).

As reivindicações da nação krahô-canela pela demarcação de seu território duraram aproximadamente 30 anos. De acordo com a Fundação Nacional do Índio (Funai), na área reivindicada, a Mata Alagada, será criada uma reserva indígena, uma vez que não pôde ser provada a tradicional ocupação da área. As fazendas obtidas (Retiro do Cocal e Lago do Jacaré) fazem parte da área demandada pelos indígenas.

KARAJÁ

Antes de 1500, os Karajás (Povo Iny) subiram o rio Araguaia. Eles migraram, entre outros motivos, devido às invasões de seu território e confrontos com outras etnias. A migração sazonal levou os Karajás para várias regiões até conquistarem o território onde vivem, nas aldeias da Ilha do Bananal, de Xambioá, Mato Grosso e Pará, às margens do rio Araguaia.

No Tocantins, existem três grupos: os Karajás/Xambioás (com população aproximada de 269 pessoas), assim chamados por morarem perto da cidade do mesmo nome. São conhecidos pela comunidade Karajá de iraru mahãdu (turma de baixo). Na Ilha do Bananal, vivem os grupos Karajá (população de 3.036) e Javaé (população de 1.456) em aldeias separadas. São chamados de ibòò marãdu (turma de cima).

Na Ilha do Bananal, concentra-se o maior número de aldeias. As que ficam próximas ao rio Javaé levam esse nome. Os Karajás/Xambioás, do município de Santa Fé, possuem duas aldeias e uma pequena população que forma o Povo Iny. Os Karajás, Javaés e Xambioás falam a mesma língua, possuem os mesmos costumes e se identificam uns com os outros como parentes. Embora geograficamente separados, pertencem aos mesmos antepassados.

201 bonecas Ritxoko, dos indígenas Karajá, entram para acervo cultural.

Agência Hoje/Redação/Maria José Batista
Cultura/Adilvan Nogueira (adaptado)



Boneca Ritxoko, patrimônio imaterial do Brasil, passa a fazer parte do acervo cultural do Tocantins

As aldeias Karajá da Ilha do Bananal produziram 201 bonecas Ritxoko, consideradas patrimônio imaterial do Brasil, e repassaram para o acervo do Estado do Tocantins, através da Secretaria de Cultura.

Boneca Karajá – RITXÓKÓ

A boneca Ritxoko retrata duas fases, a antiga e a moderna. Na primeira fase, sem os membros, ela representa os seres míticos espirituais e são lúdicas e pedagógicas. Na segunda fase, a moderna, ela vem com todos os membros e retrata o cotidiano familiar. As duas fases se complementam, transmitindo toda a complexidade da identidade do povo Karajá, caracterizada por uma sociedade matriarcal, onde a mulher sempre detém muito poder.

AVÁ-CANOEIRO

FUNAI autoriza estudo para identificar terras indígenas

São mais de 29 mil hectares nas proximidades da Ilha do Bananal, que hoje são ocupadas por fazendeiros
Wallissia Albuquerque – reportagem de 21/04/2012, Jornal do Tocantins.

O primeiro passo para o reconhecimento da terra do povo indígena Avá-Canoeiro, localizada no município de Formoso do Araguaia, a 327 km de Palmas, foi dado na última quinta-feira. No Dia do Índio foi publicado no Diário Oficial da União, a autorização dos estudos de identificação das terras indígenas

Taego Áwaque (mata azul) pelo presidente da Fundação Nacional do Índio (Funai), Márcio Meira. As terras ficam na região Sudoeste do Estado, à margem da Ilha do Bananal, e compreendem 29 mil hectares.

A área atualmente é ocupada por fazendeiros. Atualmente, o povo Avá-Canoeiro se resume a 16 pessoas que estão espalhadas em três aldeias Coaoanã e Boto Velho, do povo Javaé, e Santa Isabel, do povo Karajá. A Funai também autorizou estudos de identificação nas terras indígenas. Tenondé Porã (SP) e Menku (MT). Os fazendeiros que queiram contestar a demarcação poderão encaminhar a documentação para a Funai. Passado esse processo, será publicada a portaria declaratória, dando o direito de posse definitiva aos indígenas A coordenadora do Conselho.

Indigenista Missionário (Cimi) no Tocantins Eliane Franco acredita que o reconhecimento é o passo importante do processo que tem uma longa caminhada. Laudovina Pereira, também coordenadora do conselho, observou que a publicação é de extrema importância, além de ser uma vitória do povo canoeiro. O coordenador do Serviço de Gestão Ambiental e Territorial da Funai no Tocantins, João Mítia, destacou que a autorização dos estudos está sendo aguardada há muito tempo. De acordo com Mítia, a decisão gera o reconhecimento do povo Avá-Canoeiro, que foi expulso da terra de forma violenta. Uma das fazendas pertence à Fundação Bradesco. Sobre a decisão da Funai, o diretor de ensino da Fundação Bradesco na região, Ricardo Redeher, disse que não iria se manifestar sobre o caso antes de se reunir com os gestores da fundação.

PANKARARU

Localizados no município de Gurupi, terceira maior cidade do Tocantins, os Pankararu são originários do sertão de Pernambuco, aldeia Brejo dos Padres. Há mais de 30 anos migraram para o antigo norte goiano, expulsos pela ação dos posseiros. Reconhecidos recentemente pela Funai, os Pankararu estão vivendo o processo de criação da sua reserva indígena e o resgate do ritual “O Encantado”.

COMUNIDADES QUILOMBOLAS

Quilombolas são descendentes de africanos escravizados que mantêm tradições culturais, de subsistência e religiosas ao longo dos séculos. E uma das funções da Fundação Cultural Palmares é formalizar a existência destas comunidades, assessorá-las juridicamente e desenvolver projetos, programas e políticas públicas de acesso à cidadania. Mais de 1.500 comunidades espalhadas pelo território nacional são certificadas pela Palmares.

Foi com a Portaria nº 06 de 1º de março de 2004, que a Fundação Cultural Palmares deu o reconhecimento a algumas comunidades remanescentes de quilombolas em alguns estados, entre elas, as do Tocantins.

As comunidades quilombolas no Estado se encontram principalmente na região sudeste do Tocantins, área em que ocorreu a mineração do ouro ainda no século XVIII, com grande participação de mão-de-obra negra (escrava).

Antes do censo de 2022 do IBGE, o Estado do Tocantins tinha 29 comunidades quilombolas certificadas pela Fundação Cultural Palmares e com processo formalizado para regularização fundiária de seus territórios no INCRA. Existem outras 12 comunidades identificadas, mas que por não possuírem certificação não tem processo de regularização instaurado. O número total de comunidades quilombolas existentes no Estado do Tocantins é desconhecido.

Pela primeira vez, a equipe do Censo percorreu os quatro cantos do país para fazer o levantamento da população quilombola.

Em todo o Brasil, há 1.327.802 quilombolas, o equivalente a 0,65% de toda a população residente no país. No Tocantins, foram contabilizados 12.881.

Com base na atualização do Censo 2022 divulgada pelo IBGE e CONAQ, a população quilombola no Brasil é de 1.330.186 pessoas. Este número representa 0,66% da população total do país, com a maior concentração na região Nordeste e presença em cerca de 1.700 municípios, sendo 61,7% residentes em áreas rurais. No Tocantins, foram contabilizados 12.881.

Mateiros, que fica ao leste do Tocantins, está entre as 10 cidades do Brasil com maior proporção de pessoas quilombolas. A cidade localizada na região do Jalapão possui 2.748 habitantes, sendo que 1.190 pertencem a esse grupo étnico, o que corresponde a 43,3%.

Proporcionalmente a cidade de Acântara (MA) possui a maior população quilombola do país. Do total de 18.466 habitantes, 15.616 são quilombolas, um total de 84,6%. Na lista apresentada pelo IBGE, seis das cidades ficam no Maranhão, uma em Minas Gerais, uma em Goiás, uma Bahia e a outra no Tocantins.

Segundo o Censo 2022 do IBGE, o estado do Tocantins contabilizou 12.881 pessoas quilombolas. Embora o Censo tenha focado na população, registros do Governo do Tocantins apontam a existência de pelo menos 39 comunidades mapeadas ou até 46 quilombos, sendo o 2º maior número da região norte.

Principais dados do Censo 2022 no Tocantins:

População Quilombola: 12.881 pessoas.

População em Território: 1.328 vivendo em territórios quilombolas e 11.749 fora.

Municípios com mais quilombolas: Arraias (1.572), Chapada da Natividade (1.304), Mateiros (1.190), e Brejinho de Nazaré (1.022).

Contexto: O Tocantins representa a 16ª maior população quilombola do país.

COMUNIDADES QUILOMBOLAS RECONHECIDAS EM TOCANTINS

Nº	MUNICÍPIO	COMUNIDADE
1	ALMAS	BAIÃO
2	ALMAS	COMUNIDADE QUILOMBOLA DE ALMAS
3	ARAGOMINAS	PROJETO DA BAVIERA
4	ARAGOMINAS	PÉ DO MORRO
5	ARAGUATINS	ILHA SÃO VICENTE
6	ARRAIAS	LAGOA DA PEDRA
7	ARRAIAS	FAZENDA LAGOA DOS PATOS
8	ARRAIAS	FAZENDAS KÁAGADOS
9	ARRAIAS PARANÃ	MIMOSO
10	BREJINHO DE NAZARÉ	CÓRREGO FUNDO
11	BREJINHO DE NAZARÉ	MALHADINHA
12	BREJINHO DE NAZARÉ	CURRALINHO DO PONTAL
13	BREJINHO DE NAZARÉ	MANOEL JOÃO
14	CHAPADA DA NATIVIDADE	SÃO JOSÉ
15	CHAPADA DA NATIVIDADE	CHAPADA DA NATIVIDADE
16	CONCEIÇÃO DO TOCANTINS	ÁGUA BRANCA
17	CONCEIÇÃO DO TOCANTINS	MATÕES
18	DIANÓPOLIS	LAJEADO
19	DOIS IRMÃOS DO TOCANTINS	SANTA MARIA DAS MANGUEIRAS
20	ESPERANTINA	CARRAPICHÉ
21	ESPERANTINA	CIRÍACO
22	ESPERANTINA	PRACHATA
23	FILADÉLFIA	GROTÃO
24	JAÚ DO TOCANTINS	RIO DAS ALMAS

Nº	MUNICÍPIO	COMUNIDADE
25	LAGOA DO TOCANTINS NOVO ACORDO SANTA TEREZA DO TOCANTINS	BARRA DO AROEIRA
26	MATEIROS	MUMBUCA
27	MATEIROS	AMBRÓSIO
28	MATEIROS	CARRAPATO
29	MATEIROS	FORMIGA
30	MATEIROS	MARGENS DO RIO NOVO
31	MATEIROS	RIACHÃO
32	MATEIROS	RIO PRETO
33	MATEIROS	BOA ESPERANÇA
34	MONTE DO CARMO	MATA GRANDE
35	MONTE DO CARMO	TABOCA
36	MURICILÂNDIA	DONA JUSCELINA
37	NATIVIDADE	REDENÇÃO
38	PARANÃ	CLARO
39	PARANÃ	OURO FINO
40	PARANÃ	PRATA
41	PONTE ALTA DO TOCANTINS	LAGOA AZUL
42	PORTO ALEGRE DO TOCANTINS	SÃO JOAQUIM
43	PORTO ALEGRE DO TOCANTINS	LAGINHA
44	SANTA FÉ DO ARAGUAIA	COCALINHO
45	SANTA ROSA DO TOCANTINS	MORRO DE SÃO JOÃO
46	SÃO FÉLIX DO TOCANTINS	POVOADO DO PRATA

Fonte: <https://cidadaniaejustica.to.gov.br/noticia/2018/1/5/cresce-numero-de-comunidades-certificadas-como-remanescentes-de-quilombos-no-tocantins/>

DOMÍNIOS MORFOCLIMÁTICOS

CERRADO

Cerrado é um domínio fitogeográfico do tipo savana que ocorre no Brasil. Exibe uma enorme biodiversidade vegetal e animal, patrimônio ameaçado pelo crescimento das monoculturas, como a soja, a pecuária extensiva e a carvoaria. É o segundo ecossistema do Brasil mais devastado. Ocupa aproximadamente 87% do Estado e possui como principais características:

- vegetação herbáceo-arbustiva;
- caules tortuosos e casca grossa;
- folhas ásperas e raízes profundas;
- solo ácido (necessário fazer a calagem: adição de calcário) e de baixa fertilidade;
- grande concentração de ferro e alumínio sobre a superfície.

Subdivisão

Campo limpo: é um tipo de vegetação predominantemente herbácea (gramíneas), com raros arbustos e ausência completa de árvores;

Campo Sujo: é um tipo fisionômico exclusivamente arbustivo-herbáceo, com arbustos e subarbustos esparsos, cujas plantas são menos desenvolvidas que as árvores do Cerrado sentido restrito;

Cerrado Stricto Sensu ou Sentido Restrito: composto de vegetação herbácea e arbustiva;

Cerradão: situado em encosta de serras e próxima a rios, sua vegetação possui estratos que podem chegar até 15 m de altura.

FLORESTA OMBRÓFILA OU AMAZÔNICA OU EQUATORIAL LATIFOLIADA

A Floresta Amazônica é a floresta equatorial que forma a maior parte da Amazônia. É uma das três grandes florestas tropicais do mundo. A hileia amazônica (como a definiu Alexander von Humboldt) possui a aparência, vista de cima, de uma camada contínua de copas, situada a aproximadamente 50 metros do solo. Ocupa aproximadamente 10% do Estado, localizada principalmente no bico do Papagaio e vale do rio Araguaia. Sua área coincide com as regiões de maior precipitação (chuvas) no Estado.

FLORESTA ESTACIONAL DECIDUAL E SEMIDECIDUAL

Vegetação característica de clima semiúmido, ocupa aproximadamente 2,5% do Estado, caracteriza-se pela perda de 20 a 50% das folhas durante o inverno.

O termo “Estacional” está relacionado com estação do ano, enquanto “decidual” com a perda de folhas. Ao contrário do que ensinam nas séries iniciais sobre a vegetação geral, essa vegetação não tem perda de suas folhas durante o outono. Enquanto o cerrado possui raízes profundas que proporcionem a busca de água no período de seca, esta vegetação, que não tem como característica raízes profundas, promove a queda de parte das folhas durante o inverno (período de seca), evitando assim uma maior perda de água através da transpiração.

Floresta Estacional Decidual: ocorre perda superior a 50% de suas folhas durante o período de estiagem – sem chuva (inverno).

Floresta Estacional Semi-decidual: ocorre a perda de 20 a 50% de suas folhas durante o período de estiagem – sem chuva (inverno).

MATA CILIAR E MATA DE GALERIA

Mata Ciliar ou Mata de Galeria é a designação dada à vegetação que ocorre nas margens de rios e mananciais. O termo refere-se ao fato de que ela pode ser tomada como uma espécie de "cílio", que protege os cursos de água do assoreamento. Seu desmatamento é proibido, evitando assim o assoreamento (acúmulo de sedimentos no leito do rio).

Mata de Galeria e Ciliar: localizada às margens de rios e córregos, mata densa com solos férteis e maior disponibilidade de água na região em que se encontra.

Latossolo: solo predominante no Tocantins, ocupa aproximadamente 35% do Estado, muito utilizado para o desenvolvimento da agropecuária *extensiva* (uso de pouca ou nenhuma tecnologia).

CLIMA

Quanto mais próximo da linha do Equador (baixa latitude), menos característico é o clima de uma região. O Tocantins se encontra em baixas latitudes, por isso normalmente seu clima é definido com relação a apenas dois períodos: chuvoso e seco.

As chuvas se concentram principalmente durante o período de verão (dezembro a março) e a seca durante o inverno (junho a setembro). Daí a explicação sobre o clima do Tocantins: *tropical com verão chuvoso* ou *tropical com inverno seco*.

Mapa com índice pluviométrico (chuvas) do Tocantins



A definição do clima do nosso Estado é também definida como *tropical semiúmido* ou Tropical continental.

A precipitação média fica em 1.500 mm anuais. Fazendo um simples comparativo com outras regiões brasileiras, observamos o seguinte:

- *Floresta Amazônica*: varia entre 1.700 e 3.500 mm anuais;
- *Caatinga*: varia entre 250 e 500 mm anuais.

Verificamos que o Tocantins possui uma precipitação intermediária entre a Caatinga e a Amazônia, porém com chuvas torrenciais (grande quantidade), devido se concentrar principalmente durante o verão (dezembro a março).

Período chuvoso - de Outubro a Abril, com temperaturas que variam entre 24° e 28°C.

Estiagem - de Maio a Setembro, com temperaturas entre 29° e 36°C.

As principais massas de ar que atuam no Tocantins são:

MEC – Massa Equatorial Continental: proveniente da Amazônia, é quente e úmida e atua sobre o Tocantins no verão provocando calor e chuva.

MTC – Massa Tropical Continental: proveniente do Paraguai, é quente e seca e atua sobre o Tocantins durante o inverno.

Como percebemos, em qualquer período do ano, seja chuvoso ou de estiagem, o Tocantins sempre vai estar quente devido às duas principais massas de ar que atuam na região serem quentes.

As áreas de maior precipitação se encontram na porção setentrional (norte) e ocidental (oeste) do Estado.

Nascente: planalto goiano.

Extensão: 1.710km, a partir da junção dos rios Almas e Maranhão.

É um rio de planalto, fato que favorece a instalação de hidrelétricas.

- **Principais UHE's:**

- * *Serra da Mesa* (Minaçu - GO) construída em 1996, gera 1.275 Mw.

- * *Cana Brava* (Minaçu e Cavalcante - GO) inaugurada em 2002, com capacidade de 465 Mw, é

- considerada uma sub estação da usina de Serra da Mesa.
- * **São Salvador** (São Salvador - sul do Estado, inauguração prevista para fevereiro de 2009 – 241 Mw).
 - * **Peixe/Angical** (entre São Salvador e Peixe - TO), entrou em funcionamento em 2006, com potencial para 452 Mw.
 - * **Luis Eduardo Magalhães** (Lajeado/ Miracema - TO) inaugurada em 2001, gera 902 Mw.
 - * **Estreito** (início da construção – 2007 - divisa do TO e MA). Capacidade máxima de 1087 Mw.
 - * **Tucuruí** (Tucuruí - PA) inaugurada em 1984, é a 2ª maior do país, gera 8.370 Mw. É a maior hidrelétrica totalmente brasileira.



HIDROGRAFIA

A Bacia Tocantins-Araguaia é a maior bacia 100% nacional, ocupa 9,5% do Brasil, aproximadamente 800mil km².

A ANA (Agência Nacional de Águas) considera que a bacia Tocantins-Araguaia drena cerca de 11% do território nacional, o que corresponde a aproximadamente 937 mil km².

A Serra Geral funciona como divisor natural das águas das bacias dos rios Tocantins e São Francisco e a Serra do Estrondo funciona como divisor natural das águas das bacias dos rios Tocantins e Araguaia.

- **Rio Tocantins**

Há um impasse sobre a verdadeira nascente do rio Tocantins. São utilizados 3 critérios para se definir a verdadeira nascente de um rio: extensão, volume de água e percurso original do rio.

O rio Maranhão é o mais extenso, porém o rio Almas tem o percurso original e o rio Paranã é o mais volumoso. Na indefinição, utiliza-se a extensão oficial do rio Tocantins a partir da junção dos rios Almas e Maranhão, porém, se considerarmos como nascente o rio Maranhão, o rio Tocantins teria aproximadamente 2.400km de extensão, com nascente na serra Paranã, a 60 km de Brasília.

Principais afluentes: *Rio Araguaia, Santo Antônio, Santa Teresa, Paranã, Manoel Alves, Manoel Alves Grande, Sono, etc.*

- **Rio Araguaia**

Nascente: Serra dos Caiapós, entre GO e MT.

Extensão: 2.115km.

Principal afluente, deságua no rio Tocantins na região do Bico do Papagaio, extremo norte do Estado, município de Esperantina.

É um rio de planície, fato que desfavorece a instalação de hidrelétricas. Não possui hidrelétricas em seu leito.

- UHE Santa Izabel – projeto na região de Ananás (apenas projeto). Principais afluentes: rio Javaés, Coco, Caiapó, Lontra, Piranhas, etc.

Obs.: existem diversas hidrelétricas de pequeno porte instaladas em afluentes dos rios Tocantins e Araguaia. Destaque para a UHE Isamu Ikeda, no rio Balsas, subafluente do rio Tocantins.

- **Rio AZUIS**

Localizado no sudeste do Estado, no município de Aurora do Tocantins, é considerado o menor rio do Brasil em extensão, com aproximadamente 147 metros da sua nascente até a foz, quando deságua no rio Sobrado. O rio Azuis, apesar da pequena extensão, é considerado um rio devido ao elevado volume d'água que possui.

RELEVO

O Tocantins está localizado no Planalto Central Brasileiro, porém há predominância de depressão em seu relevo, apesar da existência também de planaltos e planície. As áreas de maiores altitudes médias estão na Serra Geral (leste do Estado), porém o ponto mais elevado do relevo tocantinense está em Paranã, na serra das Traíras (sul do Estado – 1.340m.).

- **Planaltos Residuais do Interflúvio TO-Araguaia:** são pequenos planaltos localizados principalmente entre as águas dos rios Tocantins e Araguaia e em menor quantidade à margem direita do rio Tocantins.
- **Planície do Araguaia:** envolve a área da Ilha do Bananal.
- **Depressão dos rios Araguaia e Tocantins:** envolve os leitos dos rios Tocantins e Araguaia.
- **Planalto e Chapada São Franciscana:** envolve a porção leste do estado, onde se encontra a serra Geral.

Obs.: a Chapada das Mangabeiras, região do Jalapão, se encontra à norte da Serra Geral, divisa de TO com o sul do Maranhão e Piauí.

- **Principais Serras**

- * Serra do Carmo ou Lajeado, margem direita do rio Tocantins (Palmas, Monte do Carmo, Natividade, etc).
- * Serra do Estrondo, margem esquerda do rio TO (em Paraíso do Tocantins).
- * Serra Geral ou Espigão Mestre: divisa de Tocantins a leste com PI e BA. Na divisa com o Maranhão recebe o nome de serra da Tabatinga.
- * Serra das Traíras: divisa de Tocantins com Goiás (ponto de maior altitude do Tocantins – 1.340m, no município de Paranã).

ECONOMIA

Com base nos dados mais recentes que indicam o fechamento de 2025 e projeções, a agropecuária é um pilar central da economia tocantinense. O Valor Bruto da Produção (VBP) de 2025 indicou uma participação de 43,13% do setor no PIB oficial do estado, que atingiu R\$ 51,7 bilhões, consolidando o Tocantins como potência do agronegócio com crescimento contínuo em 2026.

A agropecuária continua sendo o motor econômico do Tocantins, com uma participação robusta e crescente, registrando um crescimento de 16,4% no PIB do agronegócio em 2025 e projeção de manutenção da força em 2026, impulsionado pela soja e pecuária. O estado é destaque no Norte com valor adicionado do setor superior a 23%.

De acordo com o levantamento da Companhia Nacional de Abastecimento (Conab) a safra de grãos no ciclo 2024/25 consolida o Tocantins como o maior produtor da Região Norte do Brasil, ocupando a 9ª posição no ranking nacional. Entre os produtos mais cultivados e com melhores resultados na safra 2024/25, destacam-se a soja, o milho e o arroz. Na produção de arroz o destaque é ainda maior, o Estado é

o terceiro maior produtor pelo décimo ano consecutivo, ficando atrás apenas do Rio Grande do Sul e Santa Catarina. O Tocantins ocupa a 9ª posição no ranking de maior produção de carne bovina do país, na região norte do país, Tocantins é o terceiro maior em número de abates e o 5º lugar em gado confinado.

Com base nos dados parciais de 2025 (primeiro trimestre) levantados pela FIETO, os três maiores municípios exportadores do Tocantins (Jan-Mar 2025) foram: Palmas (15,41%), Santa Rosa do Tocantins (8,62%) e Paraíso do Tocantins (7,72%). Eles lideraram as vendas externas, impulsionadas principalmente pelo setor agroindustrial, destacando-se a soja e a carne bovina.

PIB em 2025:

O PIB do estado do Tocantins para o ano de 2025 foi estimado em R\$ 80,9 bilhões, destacando-se como um dos maiores crescimentos projetados no Brasil, com um avanço de 3,8%. Tocantins tem projeção de 5º maior crescimento do PIB do país em 2025, segundo Banco do Brasil. O estado vem mantendo uma trajetória de crescimento acelerado, impulsionada principalmente pelo agronegócio e investimentos em infraestrutura. Dados consolidados do IBGE para o ano fechado de 2025 costumam ser divulgados com defasagem, sendo a estimativa de R\$ 80,9 bilhões o valor de referência divulgado no início de 2026.

A composição do Produto Interno Bruto do Tocantins é a seguinte:

Embora os dados oficiais de 2025–2026 ainda não tenham sido totalmente publicados pelo IBGE, podemos usar as estatísticas mais recentes (baseadas em décadas recentes e projeções estáveis) para ter uma ideia aproximada da composição setorial:

Agropecuária: ~ 13 % do PIB
Indústria: ~ 27 % do PIB
Serviços: ~ 60 % do PIB

Portanto, o setor de serviços é o principal responsável pela formação do PIB estadual. No Tocantins, esse segmento da economia se concentra na capital, Palmas, e nas cidades localizadas próximas à Rodovia Belém-Brasília (BR-153), pois o fluxo de pessoas é intenso nessas localidades.

A agropecuária é a atividade responsável por, aproximadamente, 99% das exportações do estado. A pecuária bovina de corte é um dos grandes elementos econômicos do Tocantins. O estado também é grande produtor agrícola, com destaque para o cultivo de arroz, mandioca, cana-de-açúcar, milho e, principalmente, soja.

Três principais produtos de exportação ano 2025:

Com base em várias fontes oficiais e dados parciais em 2025 na Divisão por Produto (Estimado), as estimativas de participação na pauta de exportações são:

1º Soja: ~ 51 – 58,8 %
2º Bovinos: ~ 18 – 21 %
3º Milho: ~ 4 – 7 %

O setor industrial está concentrado nas cidades de Palmas, Gurupi, Porto Nacional, Araguaína e Paraíso do Tocantins. As principais indústrias são a de produtos minerais, de borracha e plástico, agroindústria e alimentícia. Sua produção é destinada principalmente ao consumo interno. Outro destaque na economia do Tocantins se refere à mineração, visto que o estado possui grandes quantidades de ouro e calcário.

Dados da economia do Tocantins:

Produto Interno Bruto (2025): R\$ 80,9 bilhões e o Produto Interno Bruto per capita (2023): R\$ 42.553,36.

Município maior produtor de soja no Tocantins em 2025:

Com base nos dados mais recentes da safra 2025/2026, Porto Nacional se consolidou como o maior produtor de soja no estado do Tocantins em 2025.

Como destaque, o município foi sede da Abertura Nacional da Colheita da Soja 2025/26 (realizada no início de 2026), reafirmando sua posição de liderança no agronegócio tocantinense.

Em quanto à Produção e Área, Porto Nacional destaca-se com uma área de aproximadamente 170 mil hectares de soja, impulsionada pela recuperação de áreas de pastagens degradadas.

Na área de exportações, pelo terceiro ano consecutivo (incluindo o início de 2025 e 2026), Porto Nacional se consolidou também como o maior exportador de soja do estado, com movimentações significativas de vendas externas.

O município é, portanto, o principal polo de produção e comercialização do grão no estado neste período.

Governo do Tocantins investe em tecnologia e produtividade e mantém liderança na produção de arroz na Região Norte:

O Governo do Tocantins, por meio da Secretaria de Estado da Agricultura e Pecuária (Seagro), celebra a consolidação do estado como principal produtor de arroz da Região Norte do Brasil. Dados do Instituto Brasileiro de Geografia e Estatística (IBGE) confirmam a liderança tocantinense na rizicultura irrigada, com municípios do estado ocupando as primeiras posições no ranking regional.

O secretário de Estado da Agricultura e Pecuária, Fred Sodré, destaca que o resultado é fruto de planejamento, tecnologia e parceria com o setor produtivo. “O Tocantins mostra, mais uma vez, a força do seu agronegócio. Essa liderança na produção de arroz é resultado do investimento contínuo do Governo do Tocantins em tecnologia, manejo eficiente e políticas públicas que fortalecem o produtor rural. Estamos falando de geração de renda, segurança alimentar e desenvolvimento regional”, afirma.

Dados do IBGE revelam que, entre os 20 maiores municípios produtores da região, o Top 4 é inteiramente tocantinense: Lagoa da Confusão, Formoso do Araguaia, Pium e Dueré lideram o ranking, reafirmando a vocação do Estado para a rizicultura irrigada.

O quadrilátero de ouro do arroz:

A liderança é puxada por Lagoa da Confusão, que deve produzir cerca de 299 mil toneladas em 2026. Somados, os quatro primeiros municípios, que também incluem Formoso do Araguaia, Cristalândia e Dueré, demonstram a força do sistema de produção em várzeas tropicais.

De acordo com o boletim da Companhia Nacional de Abastecimento (Conab) de janeiro de 2026, a produção estimada de arroz irrigado para a safra atual no estado é de 612,06 mil toneladas.

USINAS DE BIOCOMBUSTÍVEIS BIODIESEL

Porto Nacional – Granol (antiga Brasil Ecodiesel) – mamona Paraíso do Tocantins – Biotins Energia – pinhão-manso **ETANOL**

Localização: Pedro Afonso, Gurupi e Arraias. **PROJETOS**

- 1. Projeto Rio Formoso ou Javaés** – 27 000 ha (arroz irrigado 27 000 ha – inundação). Localizado em Formoso do Araguaia, Lagoa da Confusão, Dueré, Pium e Cristalândia.
- 2. Pólo de Fruticultura Irrigado São João** – 5 000 há. Localizado em Porto Nacional.
- 3. Projeto Hidroagrícola Manuel Alves** - 5 000 ha fruticultura. Localizado em Dianópolis e Porto Alegre do Tocantins.

4. **Projeto Gurita** – 200 ha – fruticultura. Localizado em Itapiratins.
5. **Projeto Sampaio** – 1 000 ha fruticultura. Localizado em Sampaio, Carrasco Bonito e Augustinópolis.
6. **Projeto Campos Lindos** – Soja, arroz, milho, coco, melancia e algodão. Localizado em Campos Lindos.



Em 31 anos de existência, o Tocantins vem sendo movido pela força de sua produção rural. No setor da fruticultura, o Estado se destaca pela qualidade em suas lavouras e na exportação de seus produtos. Dentre as principais culturas frutíferas do Tocantins, destacam-se o abacaxi, que vem registrando aumento na produtividade; a melancia e banana, cuja produção se encontra em expansão.



Obs.: Projeto Tamborá: psicultura localizado em Almas.

DADOS SOCIOECONÔMICOS DO TOCANTINS	
IDH	13º - 0,731
EXPECTATIVA DE VIDA	16º - 73 a 76 anos
POPULAÇÃO 2022	24º - 1.511.459 hab.
RENDA MÉDIA (2022)	12º - R\$ 1.486
EXTENSÃO (Km²)	10º - 277.423,627
Tx. de ANALFABETISMO	12º - 9,1%
Produtos de Exportação	Soja, Carne e Milho
Principais Grãos: soja, milho e arroz.	

Segundo os dados do Censo Demográfico de 2022 divulgados pelo IBGE

Baseia-se na agropecuária extensiva, com destaque para a pecuária de corte e o cultivo de soja para exportação.

FRUTICULTURA

No início da década de 90 a produção do Estado era de subsistência. Hoje, com qualidade reconhecida, ela é exportada para diversos países. Isto, graças às condições climáticas encontradas no Estado, que proporcionam à produção uma elevada qualidade.

A abertura desse mercado se deu com o abacaxi pérola, que conquistou o sudeste brasileiro e, depois, a Europa e países do Mercosul com seu doce sabor.

A melancia segue o mesmo caminho do abacaxi, ampliando suas colheitas e chegando a 19 estados brasileiros. A produção de banana também vem crescendo, com a vantagem de ter alcançado a recente certificação de área livre da *Sigatoka Negra*, a principal praga do fruto. Destacam-se ainda, além da melancia, abacaxi e banana, o coco da bahia, manga, laranja e melão.

PROJETOS DE IRRIGAÇÃO

Os únicos projetos de irrigação do Norte do país contemplados pelo Programa de Aceleração do Crescimento (PAC) estão no Tocantins. Seus nomes: Manuel Alves, São João e Sampaio. Estágio das obras: avançado, pois, reconhecidos como prioridade pelos governos Federal e do Tocantins, não há interrupção no processo de construção.

Assim, muito em breve, as águas do rio Tocantins e de seus afluentes estarão disponíveis à agricultura durante todas as épocas do ano, dando um novo ritmo à produção de frutas tropicais, hortaliças e diversas outras culturas, que já se mostraram aptas ao clima e ao solo em cultivos experimentais.

São projetos modernos (inclusive no quesito ambiental), que aproveitam da experiência do Nordeste brasileiro na construção de barragens e aperfeiçoam suas técnicas. Tudo isso se reflete em maior qualidade de vida para milhares de famílias rurais, de pequenos produtores a empresários agrícolas, a depender do perfil de cada projeto.

- **Projeto Manuel Alves**

A região Sudeste do Tocantins é sede de um dos grandes projetos de irrigação do país: o Manuel Alves, pela dimensão de seu reservatório de águas e pela extensão da área irrigável.

A primeira etapa do projeto foi inaugurada em março de 2008, com a entrega de 58 lotes na categoria pequeno produtor qualificado e 5 lotes na categoria empresarial. Outros 98 lotes para pequeno produtor qualificado e 9 lotes empresariais foram licitados no mesmo semestre.

Onde fica: entre as cidades de Porto Alegre do Tocantins e Dianópolis, na região Sudeste.

Fonte Hídrica: rio Manuel Alves.

Área Irrigável: 20 mil hectares.

Perfil: produção de frutas e culturas intermediárias

Sistema de irrigação: aspersão convencional, micro-aspersão e gotejamento.

Obras já realizadas: barragem, canais de irrigação, instalação do perímetro irrigado e construção de estações de bombeamento.

- **Projeto São João**

Com obras bem adiantadas, já concluídas a instalação do perímetro irrigado, as estações de bombeamento e os canais de distribuição de água, o projeto São João se prepara para inaugurar sua primeira etapa.

Onde fica: Porto Nacional, na região Central.

Fonte Hídrica: rio Tocantins.

Área Irrigável: 3.511,53 hectares.

Perfil do projeto: produção de frutíferas e hortifrutigranjeiros.

Sistema de irrigação: microaspersão e gotejamento

Recursos: Governo Federal, através do Plano de Aceleração do Crescimento (PAC), e Governo Estadual.

- **Projeto Sampaio**

Com recursos garantidos pelo PAC, o projeto Sampaio também caminha para o início de suas atividades, com possibilidades múltiplas de uso, mas com ênfase no cultivo de grãos e frutas.

Onde fica: Sampaio, Carrasco Bonito e Augustinópolis, na região do Bico do Papagaio.

Fonte Hídrica: rio Tocantins.

Área irrigável: 1.050 hectares.

Sistema de irrigação: inundação, sub-irrigação e irrigação por micro-aspersão e gotejamento.

Perfil do Projeto: produção de grãos e frutas.

Recursos: Governo Federal, através do Plano de Aceleração do Crescimento (PAC).

- **Projeto Javés, Formoso ou Rio Formoso**

Localização: Formoso do Araguaia, Dueré, Pium, Lagoa da Confusão e Cristalândia.

Principais produtos: Arroz, soja, milho e melancia.

São 1,2 milhão de hectares em área contínua para agricultura irrigada de arroz, maior em área contínua da América Latina.

- **Prodecer III**

Localização: Pedro Afonso, 200 km a norte de Palmas, às margens dos rios TO e Sono.

Principais produtos: Arroz, soja, milho, cana-de-açúcar e sorgo.

Maior produtor de soja do Estado até 2007, superado por Campos Lindos na safra de 2008/2009.

Cooperação nipo-brasileira para desenvolvimento agrícola do cerrado.

A produção de cana-de-açúcar é crescente em Pedro Afonso, município onde houve a instalação de uma fábrica de produção de etanol.

- **Projeto Campos Lindos**

Localização: Campos Lindos, nordeste do estado, divisa de TO com MA.

Principais produtos: Arroz, soja, milho, algodão, coco e melancia.

Ação de desapropriação de Campos Lindos não está transitada em julgado, decide STJ; porém, Estado já pagou R\$ 55 milhões de indenizações.

PortalCT - 23/10/2013.

Entenda

Em 1996, o governador Siqueira Campos (PSDB) desapropriou uma área de 105 mil hectares para o projeto Campos Lindos. Na época, a desapropriação foi classificada como de “utilidade pública” e, três anos depois, com a criação do projeto agrícola, os terrenos foram repassados para produtores rurais, políticos, empresários, entre outros, a preço médio de R\$ 8,00 o hectare. Entre as figuras ilustres estavam a senadora Kátia Abreu (PMDB), o ex-ministro da Agricultura Dejanir Dalpasquale; o ex-governador de Santa Catarina Casildo Maldaner; e o brigadeiro Adyr da Silva, ex-presidente da Empresa Brasileira de Aeronáutica (Embraer).

- **Projeto Sampaio**

Localização: Sampaio, Carrasco Bonito e Augustinópolis, no Bico do Papagaio.

Principais produtos: Arroz, feijão, milho e fruticultura diversificada.

Objetivo: desenvolver economicamente uma das regiões mais carentes do Estado.

Obs.:

- ✓ **Em 2007 e 2008** uma área de Alta Pressão (formadora de ventos) estacionou sobre o sul do Tocantins impedindo a chegada de ventos úmidos à região. A seca durou aproximadamente 200 dias. O prejuízo ficou superior a R\$10 milhões de reais.
- ✓ **DEZEMBRO 2008:** divulgadas pelo IBGE as 3 regiões de menor renda do Tocantins: Bico do Papagaio, Jalapão e sudeste do Estado, esta última em função da seca que vem assolando a região nos últimos anos.

FERROVIA NORTE-SUL

Todo o trecho da ferrovia Norte-sul em solo tocantinense está localizado entre a BR-153 e o rio Tocantins. Espera-se maior desenvolvimento socioeconômico devido o menor custo de frete que a ferrovia irá proporcionar, favorecendo assim a exportação de produtos primários.



A **Ferrovia Norte-Sul** é uma ferrovia brasileira, concessionarizada à Vale S.A. através de licitação realizada pela VALEC em 2008. Quando concluída, possuirá a extensão de 1.980 km e cortará os estados de Pará, Maranhão, Tocantins, Goiás, Minas Gerais, São Paulo e Mato Grosso do Sul.

A ferrovia foi concebida sob o propósito de ampliar e integrar o sistema ferroviário brasileiro. Ligará Senador Canedo (GO), a Belém, conectando-se, a sul, em Anápolis (GO), com a Ferrovia Centro-Atlântica, e, a norte, em Açailândia (MA), com a Estrada de Ferro Carajás. Ao longo de seu trajeto, a ferrovia segue paralela à Rodovia Belém- Brasília (BR-153; BR-226 e BR-010) e ao leito do Rio Tocantins.

As obras da ferrovia iniciaram-se em 1987, durante o governo do presidente José Sarney. Atualmente encontra-se pronto o trecho entre Açailândia (MA) e Palmas (TO).

PONTOS TURÍSTICOS

O Tocantins é rico em belezas naturais, com áreas onde facilmente poderiam ser roteiros turísticos de destaque não apenas no ambiente regional como também nacional.

Águas Termais: Jaú do Tocantins e Paranã.

JALAPÃO

Localizado no leste de Tocantins, cortado por imensa teia de rios, riachos e ribeirões, todos de água límpida e transparente, com temperatura média de 30 °C e área total de 34 mil Km², o Jalapão é um verdadeiro oásis no meio do cerrado. Seu nome se origina de uma planta muito comum da região: a erva jalapa-do-Brasil.

O Jalapão abrange oito municípios: Ponte Alta do Tocantins, Mateiros, São Félix do Tocantins, Lizarda, Novo Acordo, Santa Tereza do Tocantins, Rio Sono e Lagoa do Tocantins, ocupando uma área equivalente ao Estado de Sergipe e que passou a condição de parque estadual a partir de 2001.

Principais atrativos: Cachoeira da Velha e da Formiga, dunas, fervedouros, Serra da Catedral, artesanato de capim dourado, comunidade quilombola de Mumbuca, Pedra da Baliza, Prainha etc.

Fervedouro



FOTO: Parece um oásis. Em meio à vegetação fechada, entre brejos e riachos, surge um lugar de rara beleza, cercado por bananeiras. Ao seu centro está um grande poço de água azul transparente - na verdade, a nascente de um rio subterrâneo. A água que brota das areias claras cria o fenômeno da ressurgência, que tornam impossível até o banhista mais persistente afundar.

CANTÃO



Destaca-se por ser o encontro de 3 importantes ecossistemas: Amazônico, Pantanoso e Cerrado. A APA do Cantão possui uma área de aproximadamente 1.700 milhão de hectares abrangendo os municípios de Divinópolis, Marianópolis, Dois Irmãos, Pium, Araguaçema, Abreulândia, Monte Santo e Chapada de Areia.

Sua área é banhada pelo rio Araguaia, com suas inúmeras praias de areias brancas e finas, entremeadas por rios como o Coco e Javaés, e canais de águas transparentes e rasas.

Obs.: Em março de 2005 o governo estadual reduz a APA do Cantão em 89%, de 1,7 milhão para 185.425 hectares. O Ministério Público Federal ingressou com uma Ação Civil Pública, com pedido de liminar, contra o Estado do Tocantins e o Instituto Natureza do Tocantins (Naturatins), para impedir a redução da Área de Proteção Ambiental Ilha do Bananal Cantão. O caso está parado na justiça e a área permanece, até então, com sua área original.

ILHA DO BANANAL

Maior ilha fluvial do globo, a ilha do Bananal é formada pela bifurcação do rio Araguaia e se encontra na porção sudoeste do Estado. Durante o período chuvoso, 2/3 de sua área fica inundada por ser uma área de planície.

Margem direita: rio Javaés.

Margem esquerda: rio Araguaia.

Encontram-se na porção centro-sul da ilha os povos Avá- Canoeiro, Javaé e Karajá e na parte setentrional o Parque Nacional do Araguaia.

A área da Ilha ainda está subdividida entre 3 municípios tocaninenses: Pium, Lagoa da Confusão e Formoso do Araguaia.

8 CIDADES DO TOCANTINS SÃO DESTAQUES COMO MONUMENTOS QUE SE TORNARAM HISTÓRICOS

O Tocantins que é rico em belezas naturais, em ambientes propícios ao turismo e lazer, também contempla cidades antigas e monumentos que se tornaram históricos. Arraias, Dianópolis, Monte do Carmo, Natividade, Paranã, Porto Nacional, Tocantínia e Tocantinópolis são os destaques, cidades monumentos do Estado.

Arraias foi originada com a descoberta do garimpo em 1739, e é situada a 3 km da “Chapada dos Negros” antigo arraial riquíssimo em ouro. A formação étnica de Arraias é proveniente de descendentes de negros escravos e pessoas livres originárias, ao que tudo indica, de São Paulo e da Bahia. No entanto as características culturais apresentam maior influência baiana do que paulista.

Em Arraias, as construções mais antigas são datadas do século XIX. Algumas conservam paredes em tijolos de adobe, destacando-se a Igreja Matriz, que sofreu descaracterização dos seus traços originais em razão das reformas no século XX.

Dos patrimônios materiais, Arraias tem ruínas da casa do feitor na Chapada dos Negros, Igreja Matriz e Praça “Cel. Joaquim de Sena e Silva”.

Dianópolis é uma cidade que contempla obras de escritores, poetas e historiadores, especialmente por ter sido palco de movimentos armados. A cidade tem suas origens ligadas ao aldeamento indígena e à mineração em meados de 1750/51. A cidade pouco conservou a arquitetura passada, no entanto, ainda há prédios residenciais, restando duas casas do século passado.

Entre os patrimônios materiais estão a Capelinha dos Nove, Prefeitura Velha e Igreja Sagrada Família.

Monte do Carmo tem sua história datada ao período do ciclo do ouro no Brasil, quando aventureiros adentraram os sertões à procura das minas. No município, é possível encontrar muros, pedras, antigos casarões em ruínas que ficam em torno da Igreja de Nossa Senhora do Carmo, como testemunhos do importante povoado minerador que foi Monte do Carmo.

Dentre outros monumentos materiais, Monte do Carmo tem a Igreja de Nossa Senhora do Rosário e Ruínas do Arraial do Carmo.

Natividade nasceu com a exploração do ouro no século XVIII. Atualmente, Natividade tem o seu espaço urbano dividido em três zonas de usos específicos: Zona de Proteção Histórica, Zona de Proteção Ambiental, e Zona de Expansão. O conjunto arquitetônico é constituído pelas ruas estreitas de casarões e igrejas.

Entre os monumentos históricos, Natividade tem a Igreja da Matriz, Igreja do Rosário dos Pretos, Prédio da Antiga Cadeia Pública, Ruínas de São Luis, entre muitos outros.

A cidade de Paranã é um tanto quanto especial no Estado por ter história semelhante a do Tocantins. O principal, é o fato desta cidade ter sido a Comarca do Norte, em momentos embrionários da própria luta pela emancipação do Estado. A data de 5 de outubro, que marca a elevação de Paranã à categoria de cidade (1857), é também a data de criação do Estado do Tocantins (5 de outubro de 1988). O nome da capital definitiva do Estado resgata o nome da antiga Vila de Palma, cujo, habitantes, inclusive conhecidos como palmenses, mesmo adjetivo dos moradores da atual capital (Palmas).

Dos monumentos materiais, Paranã tem a Cadeia Velha, Casas de coronéis e a Igreja Matriz de São João Batista.

A origem de Porto Nacional, segundo historiadores, deve-se a navegação pelo Rio Tocantins, fazendo ligação entre os dois centros de mineração: Pontal e Monte do Carmo. Porto Nacional se orgulha de ter na parte velha da cidade imponentes ruas, como a do Cabaçaco e a da cadeia, que contam ainda com lindos casarões coloniais.

Dos monumentos históricos, Porto Nacional é contemplado com a Catedral Nossa Senhora das Mercês, Seminário São José, Caetanato, entre outros.

Tocantínia é outra cidade com história importante para o Tocantins. Não diferente das demais, Tocantínia tem seus primeiros registros envolvidos com a busca por ouro, terras e outras riquezas. A região já era habitada pelos indígenas Xerente que ocupavam as terras próximas ao Rio Providência e ao longo do Rio Tocantins. No período, houve diversos conflitos entre os indígenas e os aventureiros.

Entre seus monumentos históricos, Tocantínia tem a Igreja de Tocantínia.

Não menos importante, Tocantinópolis é a cidade em que também houve acontecimentos marcantes. Espalhada a notícia da fertilidade do local, grande número de habitantes de Carolina – MA, se deslocaram para o então povoado. Tocantinópolis hoje é uma cidade bastante urbanizada, porém, sem deixar sua característica fluvial, preservando um cais, no porto do rio Tocantins.

Dos monumentos históricos, Tocantinópolis é composta pela Catedral de Nossa Senhora da Consolação e o Seminário João XXIII.

PALMAS

Quando o Tocantins foi instalado sua capital provisória foi Miracema do Norte, hoje denominada Miracema do Tocantins.

A busca para a instalação da capital definitiva do Estado levou algumas cidades a pleitearem a vaga, dentre elas: Araguaína, Gurupi e Porto Nacional. Porém, com a necessidade de infraestrutura, localização adequada e planejamento urbano, é decidido construir uma nova cidade assim como ocorreu com Brasília.

A área escolhida, à direita do rio Tocantins, no centro do Estado, era município de Porto Nacional e as áreas pertenciam em sua maioria às fazendas Triângulo e Sussuapara.

DATAS IMPORTANTES

Eventos marcantes da história de Palmas:

21 de fevereiro de 1987 - Criação do Comitê Pró- criação do Tocantins.

05 de outubro de 1988 - Criação oficial do Estado do Tocantins, com a promulgação da Constituição Federal de 1988.

02 de janeiro de 1989 - Escolha da localização do Canela para sediar a Capital do Tocantins, no Governo Siqueira Campos.

28 de janeiro de 1989 - definição do local em que seria construída Palmas, a Capital definitiva do Estado.

18 de maio de 1989 - O Cruzeiro foi erguido em frente ao Palácio Araguaia. 20 de maio de 1989 - Lançamento da Pedra Fundamental de Palmas. Na mesma data, Dom Celso Pereira de Almeida celebrou a Primeira Missa, na Praça dos Girassóis.

1º de junho de 1989 - Implantação da 1ª Legislatura da Câmara Municipal.

29 de dezembro de 1989 - Promulgação, pelo então prefeito de Taquaruçu, Felon Barbosa Sales, da lei de transferência da sede do município de Taquaruçu do Porto para Palmas.

1º de janeiro de 1990 - Instalação de Palmas, com a transferência dos Governos Estadual e Municipal para a nova Capital.

A Empresa contratada foi a Grupo Quatro, de Goiânia.

Os arquitetos responsáveis pela elaboração do Plano Diretor, Walfredo Antunes e Luís Fernando Cruvinel.

A origem do nome dado à capital Palmas não é consenso. Há duas origens principais:

Versão 1: homenagem à antiga vila de São João da Palma (hoje Paranã).

Versão 2: devido à variedade de palmeiras que se encontram no Estado do Tocantins.

O primeiro prefeito de Palmas foi Felon Barbosa, eleito prefeito de Taquaruçu em abril de 1989, alguns meses após sua emancipação do município de Porto Nacional. A criação de Palmas como município passava por impasse jurídico e Felon Barbosa, então prefeito de Taquaruçu do Porto, foi convencido a transferir a sede de seu município para Palmas (tornado-o assim o 1º prefeito), voltando Taquaruçu a ser um distrito, porém, agora da capital, Palmas. Ocorre a transferência da sede de governo de Taquaruçu para Palmas em 29 de dezembro de 1989.

GOVERNO SANCIONA LEI QUE CRIA REGIÃO METROPOLITANA DE PALMAS

Área abrange 16 municípios da região central do Tocantins. No dia 31 de dezembro de 2013 foi sancionada a lei que institui e organiza a região metropolitana de Palmas. Abrangendo 16 municípios da região central do Tocantins, a lei nº 2.824 é "destinada a unificar a organização, planejamento e execução de funções públicas de interesse comum", conforme informou o governo do estado.

As cidades que fazem parte da região metropolitana de Palmas são: Aparecida do Rio Negro, Barrolândia, Fátima, Ipueiras, Lajeado, Brejinho de Nazaré, Miracema do Tocantins, Miranorte, Monte do Carmo, Oliveira de Fátima, Paraíso do Tocantins, Pugmil, Silvanópolis, Tocantínia e Porto Nacional.

Ao todo, os municípios somam mais de 437 mil habitantes, cerca de 30% da população tocanтинense. Da região, fazem parte três dos municípios mais populosos do Tocantins: Palmas, Porto Nacional e Paraíso.

EXERCÍCIOS

FATOS HISTÓRICOS

- 1. A cidade escolhida como capital provisória do Estado foi:**
 - a) Taquaruçu.
 - b) Porto Nacional.
 - c) Gurupi.
 - d) Miracema do norte.
 - e) Paraíso do Tocantins.

- 2. Entre as cidades em Tocantins que surgiram pelo durante o ciclo de mineração do ouro - século XVIII - destacam-se, EXCETO:**
 - a) Natividade.
 - b) Arraias.
 - c) Monte do Carmo.
 - d) Gurupi.
 - e) Dianópolis.

- 3. Quantos municípios tinham instalados no Estado do Tocantins no ato de sua criação? E quantos existem atualmente?**
 - a) 60 e 120.
 - b) 39 e 79.
 - c) 79 e 139.
 - d) 123 e 144.
 - e) 60 e 139.

- 4. Qual das cidades abaixo relacionadas não tiveram destaque no processo de mineração no Estado de Tocantins.**
 - a) Pedro Afonso.
 - b) Arraias.
 - c) Almas.
 - d) Monte do Carmo.
 - e) Natividade.

- 5. Qual das cidades abaixo não tem a sua origem ligada ao ciclo da mineração:**
 - a) Arraias.
 - b) Natividade.
 - c) Porto Nacional.
 - d) Conceição do Tocantins.
 - e) Tocantínia.

- 6. Principal riqueza de origem mineral explorada no Vale do Araguaia durante as décadas de 30 a 50.**
 - a) Ouro.
 - b) Quartzo.
 - c) Urânio.
 - d) Areia Monazítica.
 - e) Alumínio.

- 7. Nos anos 50, a construção da Rodovia Belém-Brasília (BR-153) trouxe uma série de transformações para a região do Tocantins. Sobre a construção da rodovia, é correto afirmar:**
 - () A construção da Rodovia Belém-Brasília está relacionada à política nacional de desenvolvimento, consolidada a partir da chamada “marcha para o oeste”.
 - () A partir da construção da Rodovia, a economia da região passa a sofrer um impulso, o que se expressa no crescimento do setor bancário.
 - () Com a construção da Belém-Brasília diminui a circulação de mercadorias nos rios da região. Várias linhas hidroviárias são desativadas, como por exemplo: Porto Nacional-Lajeado; Tocantínia–Pedro Afonso-Carolina.
 - () A construção da rodovia aumentou o fluxo migratório para a região.

8. “Constituindo uma das áreas pioneiras no povoamento recente da fronteira nacional, o território correspondente ao atual Estado do Tocantins apresentou profundas transformações na organização do seu espaço geográfico a partir da década de 60.” (Figueiredo, 1989, p. 173 in Revista Brasileira de Geografia).

Considerando o processo de organização territorial do Estado do Tocantins, analise as alternativas abaixo:

- () A ocupação recente do espaço no qual se implantou o Estado ocorreu em função da expansão das fronteiras agrícolas e da intervenção federal com a construção de Brasília e da Rodovia Belém-Brasília.
- () A rodovia BR 153 (Belém-Brasília) é fundamental para o desenvolvimento do Estado, pois se constitui na principal via de escoamento da produção para outros Estados.
- () A modernização da produção agrícola no Estado do Tocantins ampliou a demanda pela melhoria dos meios de escoamento da produção. Assim, a construção da Ferrovia Norte-Sul é fundamental para o desenvolvimento econômico da região.
- () As cidades de Gurupi e Araguaína representam os principais centros urbanos regionais que estão situados ao longo da rodovia Belém-Brasília.

9. Marque a alternativa que corresponde às cidades que surgiram a partir do desenvolvimento da pecuária em Tocantins logo após a decadência da mineração, no final do séc. XVIII e início do século XIX.

- a) Lagoa da Confusão, Araguaína e Xambioá.
- b) Araguaína, Xambioá e Gurupi.
- c) Porto Nacional, Gurupi e Araguaína.
- d) Taguatinga, Lizarda, Ponte Alta do Bom Jesus.
- e) Araguaína, Xambioá e Araguatins.

10. Entre as alternativas abaixo, assinale aquela que melhor caracteriza historicamente as seguintes cidades tocaninenses: Cristalândia, Pium, Formoso do Araguaia e Xambioá.

- a) A exploração do ouro.
- b) Criação extensiva do gado.
- c) A exploração do quartzo.
- d) Extrativismo da madeira.
- e) Extração do calcário.

DATAS

11. Quais as datas de criação e implantação do Estado de Tocantins?

- a) 05/10/1988 e 01/01/1989.
- b) 01/10/1988 e 01/01/1989.
- c) 01/01/1988 e 01/10/1989.
- d) 05/01/1988 e 01/10/1989.
- e) 20/05/1889 e 01/01/1990.

12. Quais as datas de Lançamento da Pedra Fundamental e Implantação de Palmas?

- a) 20/05/88 e 01/01/1989.
- b) 20/05/88 e 01/01/1990.
- c) 20/05/89 e 01/01/1989.
- d) 01/05/89 e 01/01/1990.
- e) 20/05/89 e 01/01/1990.

13. As primeiras eleições para governador ocorreram 40 dias após a criação do Estado. Marque a alternativa que corresponde exatamente às primeiras eleições no Tocantins.

- a) 05 de outubro de 1988.
- b) 15 de novembro de 1988.
- c) 01 de janeiro de 1989.
- d) 15 de fevereiro de 1989.
- e) 18 de março de 1989.

LOCALIZAÇÃO, COORDENADAS E LIMITES

14. O Tocantins se limita à leste com:

- a) PI e MA.
- b) MA e BA.
- c) PI e BA.
- d) PI, MA e BA.
- e) PA, MA e BA.

15. A Ilha do Bananal está localizada em qual região de Tocantins?

- a) Norte.
- b) Oeste.
- c) Sudeste.
- d) Sudoeste.
- e) Sul.

16. O Estado de Tocantins se situa na região:

- a) Sul.
- b) Centro-oeste.
- c) Norte.
- d) Nordeste.
- e) Centro-Sul.

17. Quais as latitudes de Tocantins?

- a) Entre os paralelos 5 e 13° oeste.
- b) Entre os paralelos 46 e 51° oeste.
- c) Entre os paralelos 5 e 13° sul.
- d) Entre os paralelos 5 e 13° leste.
- e) Entre os paralelos 46 e 51° sul.

18. Qual a extensão territorial do Estado de Tocantins?

- a) 277 mil km²
- b) 180 mil km²
- c) 526 mil km²
- d) 139 mil km²
- e) 320 mil km²

19. Com quantos Estados o Tocantins faz divisa?

- a) 4.
- b) 5.
- c) 6.
- d) 7.
- e) 8.

20. Qual alternativa apresenta todos os Estados que se limitam com o Tocantins?

- a) GO, MT, PA, MA e PI.
- b) GO, MT, PR, MA, BA e PI.
- c) GO, MT, PA, MA e PI.
- d) GO, MT, PA, MA, BA e PI.
- e) GO, MS, PA, MA, BA e PI.

SÍMBOLOS NATURAIS e POLÍTICOS

21. Qual a flor e pássaro símbolo de Tocantins?

- a) Rosa e Gavião.
- b) Girassol e Periquito.
- c) Cravo e Águia.
- d) Girassol e Arara Amarela.
- e) Flor de Pequi e Arara Amarela.

- 22. Qual a pedra e árvore símbolo de Tocantins?**
- a) Ouro e Ipê.
 - b) Esmeralda e Pequizeiro.
 - c) Cristal e Ipê.
 - d) Cristal e Pequizeiro.
 - e) Granada e Fava de Bolota.
- 23. No Brasão do Estado de Tocantins, o que representa o sol nascendo ao centro?**
- a) Um futuro iluminado.
 - b) O sol nasce para todos.
 - c) O Estado Nascente.
 - d) O Estado da Igualdade e da Justiça social.
 - e) Esta Terra é nossa.
- 24. O que significa a mensagem em tupi guarani acima do Brasão “CO YVY ORE RETAMA”?**
- a) Um futuro iluminado.
 - b) O sol nasce para todos.
 - c) O Estado nascente.
 - d) O Estado da Justiça social.
 - e) Essa Terra é nossa.
- 25. Qual o significado de um sol, sobre uma faixa branca, ao centro da bandeira de Tocantins?**
- a) Um futuro iluminado.
 - b) O sol nasce para todos.
 - c) Estado de clima tropical.
 - d) O Estado da Igualdade e da Justiça social.
 - e) Esta Terra é nossa.
- 26. Assinale a alternativa que apresenta as cores da bandeira de Tocantins.**
- a) Verde, amarelo e azul.
 - b) Azul, amarelo e vermelho.
 - c) Azul, branca e amarela.
 - d) Vermelha, azul e amarela.
 - e) Verde, amarela e branca.
- 27. Com relação aos símbolos do Estado do Tocantins julgue os itens abaixo (V ou F):**
- () A letra do hino tocantinense é de autoria de Liberato Costa Povoá.
 - () A planta símbolo do Estado é o pequizeiro.
 - () As cores da bandeira tocantinense são branco, amarelo e azul.
 - () A data que consta no Brasão do Tocantins representa a data de criação do Estado.
 - () O sol existente ao centro da bandeira do Tocantins significa, o sol nasce para todos.
- 28. Entre os vários símbolos do Estado do Tocantins é correto afirmar que:**
- a) O tucano como ave símbolo de Tocantins.
 - b) Na bandeira do Estado encontram-se as cores azul, branco e vermelho.
 - c) No brasão está escrito o lema CO YVY ORE RETAMA, que significa “Esta terra tem dono”.
 - d) As duas faixas azuis que se encontram no centro do brasão representam o encontro dos rios Araguaia e Tocantins.
- 29. Sobre o Estado do Tocantins julgue os itens:**
- () O Estado é formado por 139 municípios.
 - () Esperantina é o município localizado no encontro das águas dos rios Tocantins e Araguaia.
 - () Após a criação do Tocantins, os primeiros municípios instalados foram Aliança do Tocantins e São Valério de Natividade.
 - () Entre as cinco maiores cidades do Estado, três delas se localizam na rodovia Belém-Brasília (BR-153).

POLÍTICA

30. Quantos são os deputados federais e deputados estaduais representam o Estado de Tocantins, respectivamente?

- a) 9 e 15.
- b) 8 e 24.
- c) 12 e 25.
- d) 13 e 18.
- e) 8 e 15.

31. Como é formada a representação política do Tocantins?

- a) 24 deputados estaduais, 08 deputados federais, 03 senadores e 19 vereadores.
- b) 24 deputados estaduais e 03 senadores.
- c) 24 deputados estaduais, 08 deputados federais e 03 senadores.
- d) 15 deputados estaduais, 08 deputados federais e 08 senadores.
- e) 15 deputados estaduais, 12 deputados federais e 03 senadores.

POPULAÇÃO/URBANIZAÇÃO

32. De acordo com as características da rede urbana tocantinense, marque V ou F:

- () A cidade de Porto Nacional é o mais importante centro urbano do Estado, sendo superado apenas pela capital, Palmas.
- () Rede urbana tocantinense caracteriza-se pela dispersão das cidades pelo território, sendo o trecho da rodovia Belém-Brasília a área de maior adensamento das cidades.
- () As principais cidades do estado de Tocantins, além da capital, são: Araguaína (norte), Gurupi (sul) e Porto Nacional (centro).

33. Segundo os dados do Censo 2010 do IBGE:

- a) O Estado do Tocantins conta atualmente com 139 municípios e uma população total de 1.383.445 (um milhão, trezentos e oitenta e três mil, quatrocentos e quarenta e cinco habitantes).
- b) O Estado do Tocantins conta atualmente com 129 municípios e uma população total de 1.580.322 (um milhão quinhentos e oitenta mil e trezentos e vinte e dois habitantes).
- c) O Estado do Tocantins conta atualmente com 154 municípios e uma população total de 1.055.111 (um milhão cinqüenta e cinco mil e cento e onze habitantes).
- d) O Estado do Tocantins conta atualmente com 97 municípios e uma população total de 942.674 (novecentos e quarenta e dois mil e seiscentos e setenta e quatro habitantes).
- e) O Estado do Tocantins conta atualmente com 139 municípios e uma população total de 2.342.978 (dois milhões, trezentos e quarenta e dois mil e novecentos e setenta e oito habitantes).

34. De acordo com as características da rede urbana tocantinense, marque V ou F:

- () As maiores cidades do Tocantins se concentram na região sudeste do Estado.
- () As cidades de Porto Nacional, Natividade e Arraias se localizam na rodovia Coluna Prestes.
- () As maiores cidades no centro do estado são: Palmas, Porto Nacional e Paraíso do Tocantins.
- () A área de influência econômica de Palmas, capital, é muito pequena, o que contribui para a integração insatisfatória das cidades tocantinenses.

35. A localização geográfica privilegiada do Estado do Tocantins, parte central do país, transforma o Estado em um local estratégico e de interesse econômico. Considerando o processo de ocupação do território no qual se instalou o Estado do Tocantins, marque V ou F:

- () A criação do Estado do Tocantins, através da Constituição de 1988, atraiu o interesse de empresários da construção para o Estado, principalmente durante a construção dos edifícios na área da nova capital: a cidade de Palmas.
- () O Estado do Tocantins possui deficiências de infraestrutura, transporte, saneamento básico, comunicação e energia, que exigem grandes investimentos públicos e privados
- () A construção da hidrelétrica de Lajeado nas proximidades da cidade de Palmas é um importante passo para o desenvolvimento econômico do Estado do Tocantins.
- () A criação do Estado do Tocantins, a partir da separação do Estado de Goiás, coroou as reivindicações da população local em busca de melhorias para a região.
- () O maior número de imigrantes no Tocantins é proveniente do estado do Maranhão.

- () Localiza-se na Praça dos Girassóis o ponto geodésico do Brasil.

RELEVO

36. Em 2007 foi divulgada a existência de uma grande reserva de minério de ferro em Tocantins, na:

- a) Serra do Estrondo.
- b) Serra do Carmo.
- c) Serra do Espigão Mestre.
- d) Serra das Traíras.
- e) Serra da Tabatinga.

37. Trata-se do ponto culminante do Estado de Tocantins:

- a) Serra do Estrondo.
- b) Serra do Carmo.
- c) Serra do Lajeado.
- d) Serra das Traíras.
- e) Serra do Bananal.

38. Considerando as características geológicas e o relevo tocaninense, marque V ou F:

- () A serra das Traíras é onde se encontra o ponto mais alto do relevo tocaninense, na divisa do Tocantins com a Bahia.
- () A Ilha do Bananal ocorre em uma área de bacia sedimentar na qual se forma uma planície, denominada Planície do Bananal.
- () A divisa do Estado de Tocantins com o Pará predomina terrenos sedimentares que formam serras, chapadas e morros.
- () A serra do Estrondo situa-se na divisa dos estados do Tocantins, Piauí e Maranhão e constitui-se em um divisor natural de águas, entre as bacias hidrográficas do Tocantins e São Francisco.

39. Marque a alternativa cujo Estado não faz fronteira com o Tocantins.

- a) Maranhão.
- b) Piauí.
- c) Bahia.
- d) Mato Grosso.
- e) Ceará.

40. Divisor de águas entre as bacias do Tocantins e do São Francisco:

- a) Serra do Estrondo.
- b) Serra das Mangabeiras.
- c) Serra do Carmo.
- d) Serra Geral ou Espigão Mestre.
- e) Serra de Natividade.

41. Divisor de águas das bacias Tocantins e Araguaia em território tocaninense:

- a) Serra do Estrondo.
- b) Serra Geral.
- c) Serra dos Parecis.
- d) Espigão Mestre.
- e) Jalapão.

42. Sobre o relevo de Tocantins, julgue os itens a seguir: (V ou F).

- () 1. A serra do Carmo é um divisor natural de águas entre as bacias do Tocantins e São Francisco.
- () 2. A serra do Estrondo foi destaque durante o ciclo da mineração (séc. XVIII), onde na mesma se situam algumas das cidades mais antigas do Estado.
- () 3. As cidades de Natividade e Monte do Carmo estão situadas às margens da serra do Carmo.
- () 4. A serra das Traíras se encontra disposta no sentido leste-oeste e a mesma faz divisa natural entre os Estados de Tocantins e Goiás.
- () 5. A serra Geral também é denominada de serra do Lajeado.
- () 6. A cadeia de serra predominante na região do Jalapão é o Espigão Mestre.

- () 7. O ponto mais alto do relevo tocantinense se encontra na serra Geral, município de Lizarda.
- () 8. Grande quantidade de minério de ferro foi encontrada na Serra do Lajeado, entre os municípios de Palmas e Ponte Alta do Tocantins.
- () 9. O ponto culminante do relevo tocantinense se encontra no município de Paranã, na serra das Traíras.
- () 10. O relevo de Tocantins tem suas maiores altitudes na parte meridional e à medida que se desloca para o norte a altitude vai diminuindo.
- () 11. A maior planície que se encontra em Tocantins envolve a área da ilha do Bananal.
- () 12. A Chapada das Mangabeiras se encontra na porção leste do Tocantins, região conhecida como Jalapão.
- () 13. A ilha do Bananal compreende a maior planície do Tocantins, denominada Planície do Bananal.
- () 14. Paraíso do Tocantins se encontra às margens da serra do Espigão Mestre.
- () 15. A Pedra da Baliza é um marco natural de divisa entre Tocantins, Piauí e Bahia.
- () 16. A Serra do Estrondo foi de grande destaque durante o período do ciclo do ouro, surgindo nas margens destas algumas das cidades mais antigas de Tocantins.
- () 17. A parte ocidental de Tocantins é a área de maior altitude do Estado, onde se encontram as serras do Lajeado e Espigão Mestre.
- () 18. A Pedra da Baliza, marco natural de divisa entre Estados, se encontra na região da serra do Carmo.
- () 19. A serra do Carmo também é denominada de serra do Lajeado e a serra Geral é conhecida por Espigão Mestre.
- () 20. Em 2007 foi divulgada a presença de uma reserva de minério de ferro superior à de Carajás, no Pará. A jazida mencionada se encontra na serra do Carmo, envolvendo os municípios de Palmas e Ponte Alta do Tocantins.

POVOS INDÍGENAS

43. Em 08 de dezembro de 2006 saiu a demarcação no Diário Oficial da União a reserva indígena:

- a) Javaés.
- b) Karajás.
- c) Krahô.
- d) Pankararu.
- e) Krahô-Canela.

44. São denominados “povos do Araguaia”, esses povos possuem a mesma origem (povo Iny), pertencem ao tronco indígena Macro-Jê, falam a mesma língua e vieram migrando do norte e baixo Araguaia antes dos anos 1500. O texto se refere a:

- a) Javaé e Avá-Canoeiro.
- b) Xerente e Karajá.
- c) Krahô e Krahô-Canela.
- d) Karajá, Javaé e Xambioá.
- e) Apinajé e Javaé.

45. Quais povos indígenas possuem suas reservas às margens do rio Tocantins?

- a) Xavante e Javaé.
- b) Xerente e Karajá.
- c) Krahô e Xavante.
- d) Karajá e Javaé.
- e) Apinajé e Xerente.

46. Quais povos indígenas se localizam na Ilha do Bananal?

- a) Xavante e Javaé.
- b) Xerente e Karajá.
- c) Krahô e Xavante.
- d) Karajá e Javaé.
- e) Apinajé e Javaé.

47. Quantas nações indígenas vivem no estado de Tocantins?

- a) Seis.
- b) Cinco.
- c) Sete.
- d) Oito.
- e) Nove.

48. Quais as nações indígenas que se localizam no Bico do Papagaio?

- a) Xerente e Krahô.
- b) Xerente e Karajá.
- c) Javaés e Karajá.
- d) Xambioá e Apinayé.
- e) Apinajé e Krahô.

49. Qual o nome da boneca indígena que foi concebida com o título de Patrimônio Cultural do Brasil e a qual povo pertence?

- a) Ritxoko e Krahô.
- b) Ritxoko e Karajá.
- c) Karatja e Karajá.
- d) Apitjayé e Apinayé.
- e) Krakaraô e Krahô.

50. Marque a alternativa que corresponde aos povos que vivem nos municípios de Itacajá e Tocantinópolis, respectivamente.

- a) Krahô e Xambioá.
- b) Krahô e Karajás.
- c) Apinajé e Krahô.
- d) Javaés e Xerente.
- e) Krahô e Apinajé.

51. A sua reserva se localiza nos municípios de Goiatins e Itacajá, a nordeste do Estado:

- a) Xerente.
- b) Krahô.
- c) Apinajé.
- d) Karajá.
- e) Javaé.

52. Habitam o centro do estado. Sua reserva está localizada no município de Tocantínia e sua população chega a 3.108 habitantes, distribuídos em 54 aldeias, numa área de 183.542 hectares. Em dias festivos, ainda se pintam, correm com toras e dançam no centro da aldeia, preservando assim, sua cultura. Possuem como atividade econômica básica a agricultura de subsistência, o artesanato e a caça, já difíceis de se encontrar na reserva.

- a) Javaé.
- b) Xerente.
- c) Krahô.
- d) Apinajé.
- e) Karajá.

53. Quais povos indígenas possuem suas reservas à direita do rio Tocantins?

- a) Krahô e Xerente.
- b) Krahô, Apinajé e Xerente.
- c) Krahô-Canela, Apinajé e Xerente.
- d) Xerente, Karajá e Apinajé.
- e) Karajá, Javaé e Xambioá.

54. No Estado do Tocantins, existem atualmente, nove nações indígenas. Quais dessas nações estão localizadas na Ilha do Bananal e na micro-região geográfica conhecida como Bico do Papagaio?

- a) Krahô, Xerente, Xavante e Avá-Canoeiro.
- b) Xambioá, Krahô, Apinajé e Xerente.
- c) Javaé, Xavante, Krahô, Apinajé e Caiapó.
- d) Xerente, Carajá, Apinajé e Urubu.
- e) Karajá, Javaé, Xambioá e Apinajé.

CLIMA

55. O clima de Tocantins é:

- a) Tropical com inverno chuvoso.
- b) Semiárido.
- c) Equatorial úmido.
- d) Subtropical semiúmido.
- e) Tropical com verão chuvoso.

56. O clima predominante no Tocantins é o tropical semi- úmido. Este clima caracteriza-se por:

- a) Existirem quatro estações do ano bem definidas;
- b) Apresentar médias térmicas anuais próximas dos 40 graus;
- c) Possuir apenas duas estações: invernos secos (maio a setembro) e verões chuvosos (outubro a abril);
- d) Apresentar chuvas regulares e bem distribuídas durante todo ano com médias acima dos 2000 mm³ /ano;
- e) Ter mais de 320 dias de estiagem por ano.

57. O Estado do Tocantins possui uma economia alicerçada principalmente na produção agrícola. Nesse sentido, considerando as características climáticas do Estado que podem influenciar na produção agropecuária, é incorreto afirmar que:

- a) O clima predominante no Tocantins é o tropical semiárido com duas estações bem definidas: o inverno e o verão.
- b) As características climáticas do Estado contribuem para que os produtos agrícolas, principalmente o abacaxi e a melancia, cheguem ao mercado consumidor na fase de entressafra, alcançando, assim, melhores preços.
- c) O Estado do Tocantins está em uma área de transição, entre a área equatorial amazônica e a tropical, por isso apresenta características climáticas das duas áreas.
- d) As condições climáticas que prevalecem em Tocantins estão associadas às baixas latitudes em que o Estado se encontra.

ECONOMIA

58. Marque a alternativa que corresponde às principais cidades do PRODECER III e Projeto Javaés, respectivamente.

- a) Formoso do Araguaia e Campos Lindos.
- b) Pedro Afonso e Formoso do Araguaia.
- c) Sampaio e Cristalândia.
- d) Lagoa da Confusão e Campos Lindos.
- e) Formoso do Araguaia e Sampaio.

59. A região mais carente sócio-economicamente de Tocantins é:

- a) Região central.
- b) Bico do Papagaio.
- c) Ilha do Bananal.
- d) Vale do Araguaia.
- e) Palmas.

- 60. Assinale a alternativa que corresponde à atividade econômica mais importante do Estado de Tocantins.**
- a) Extração mineral e agricultura.
 - b) Agropecuária extensiva.
 - c) Pecuária e extração mineral.
 - d) Agricultura e comércio de produtos artesanais.
 - e) Extração mineral e vegetal.
- 61. Qual das cidades abaixo não tem a sua origem ligada ao ciclo da navegação?**
- a) Tocantinópolis.
 - b) Itaguatins.
 - c) Porto Nacional.
 - d) Araguatins.
- 62. Região de grande progresso econômico durante a 2ª Guerra Mundial, devido ao Ciclo do Cristal de Rocha:**
- a) Bico do Papagaio.
 - b) Jalapão.
 - c) Vale do Araguaia.
 - d) Sul do Estado.
 - e) Itacajá.
- 63. A construção da BR-153 cumpriu um importante papel de integrar o Tocantins à economia do Centro-Sul do país. Esta rodovia foi construída durante o governo de:**
- a) Getúlio Vargas.
 - b) Juscelino Kubitschek.
 - c) Jânio Quadros.
 - d) João Goulart.
 - e) Siqueira Campos.
- 64. O Programa de Desenvolvimento do Cerrado – PRODECER III, está implantado no município de:**
- a) Pium.
 - b) Pedro Afonso.
 - c) Lagoa da Confusão.
 - d) Jalapão.
 - e) Formoso do Araguaia.
- 65. Constitui-se em obra de fundamental importância para a viabilização da malha de transportes da região de influência do Corredor Multimodal que se pretende construir no Tocantins.**
- a) Ferrovia Norte – Sul.
 - b) Hidrovia do Javaés-Araguaia.
 - c) Barragem do Estreito.
 - d) Barragem de Peixe.
 - e) Hidrovia do Rio Paranã.
- 66. Em _____, Norte do Estado, está sendo estruturada a Zona de Processamento de Exportação – ZPE, com oferta de infra-estrutura e vantagens fiscais especiais aos investidores. A produção da ZPE chegará aos mercados consumidores internacionais, através da Ferrovia Norte-Sul, até os portos de Itaqui (no Estado do Maranhão) e Barcarema (no Estado do Pará).**
- a) Paraíso.
 - b) Araguaína.
 - c) Itacajá.
 - d) Gurupi.
 - e) Axixá.

67. Marque a associação incorreta

- a) Miracema e Miranorte se destacam na produção de abacaxi, cuja parte da produção é voltada para exportação.
- b) Pedro Afonso é o maior produtor de soja do Estado.
- c) O Bico do Papagaio é uma das regiões mais carentes do Tocantins.
- d) A região do Jalapão, um dos principais cartões postais do Estado, se encontra na porção oriental do Tocantins e é constituído por oito municípios.
- e) Três principais tipos de grãos plantados em Tocantins são soja, arroz e milho.

68. Considerando o quadro econômico do Estado do Tocantins, é correto afirmar que:

- a) Os principais produtos agrícolas cultivados no Estado do Tocantins são: o arroz a soja, a uva e o milho.
- b) A pecuária desenvolve-se, principalmente, entre os rios Tocantins-Araguaia.
- c) O Estado do Tocantins destaca-se no contexto regional pelo desenvolvimento industrial nas áreas de siderurgia, metalurgia, mecânica e de bens de consumo duráveis.
- d) Os investimentos na produção de energia hidroelétrica fazem da energia em Tocantins umas das mais baratas do país.

69. Em Tocantins se encontram duas usinas de biodiesel. Em quais municípios foram instaladas essas usinas?

- a) Araguaína e Gurupi.
- b) Gurupi e Porto Nacional.
- c) Pedro Afonso e Paraíso do Tocantins.
- d) Paraíso do Tocantins e Porto Nacional.
- e) Porto Nacional e Pedro Afonso.

VEGETAÇÃO

70. No Tocantins a Floresta Ombrófila ocorre:

- a) Na Ilha do Bananal.
- b) Nas bordas do deserto do Jalapão e no município de Itacajá.
- c) No limite setentrional do Estado junto às margens do rio Araguaia.
- d) Na divisa com o Maranhão, onde existe uma área de ocorrência dos babaquais, muito aproveitados para a extração do óleo.
- e) Na Peneplanície do Araguaia, limitada a leste pelo maciço da Serra do Estrondo.

71. O cerrado é a formação vegetal característica do Estado do Tocantins, sendo que ao norte do Estado, também ocorre a presença de manchas remanescentes da Floresta Amazônica. Sobre as características da vegetação tocaninense, marque V ou F.

- () As variações locais dos principais tipos de vegetação do Estado ocorrem em função das características climáticas e do solo presentes no Estado do Tocantins.
- () O cerrado típico é formado por árvores e arbustos associados a uma vegetação rasteira composta por gramíneas.
- () As áreas de ocorrência da Floresta Amazônica ocupam os vales mais úmidos do norte do Tocantins, na área limítrofe com o Estado do Pará.
- () A prática agropecuária reduziu as áreas de ocorrência do cerrado no Estado do Tocantins, o que pode ocasionar no equilíbrio hidrológico da bacia Tocantins-Araguaia.

72. As discussões sobre as questões ligadas ao meio ambiente, preservação e degradação, recebem a atenção da sociedade organizada e dos governos nas diferentes esferas políticas. Considerando a diversidade natural do Estado do Tocantins, é incorreto afirmar que.

- a) O ecoturismo é uma atividade econômica que se desenvolve de forma crescente nas áreas do Jalapão e Cantão.
- b) O ecoturismo procura aliar a conservação do meio ambiente ao desenvolvimento econômico dos moradores das áreas visitadas.
- c) Palmas, capital do Tocantins, destaca-se pela extensão das áreas verdes existentes no espaço urbano.
- d) O parque estadual do Cantão envolve Palmas e a serra do Carmo.

HIDROGRAFIA

- 73. Qual das usinas hidrelétricas abaixo não se encontra na bacia Tocantins-Araguaia?**
- a) Isamu Ikeda.
 - b) Tucuruí
 - c) Balbina.
 - d) Luís Eduardo Magalhães.
 - e) Serra da Mesa.
- 74. Sobre o Estado do Tocantins, marque a alternativa correta.**
- a) Araguacema, Caseara e Araguatins se localizam nas margens do rio Tocantins.
 - b) Formoso do Araguaia, Paranã e Xambioá se destacam pelas praias ao longo do rio Araguaia.
 - c) As cidades de Pium e Caseara dão acesso ao Parque do Jalapão e se localizam na parte leste do Tocantins.
 - d) Palmas, Lajeado e Peixe destacam-se porque tem suas praias ao longo dos rios Tocantins e Coco.
 - e) As praias de Peixe, Porto Nacional e Tocantinópolis surgem ao longo do rio Tocantins.
- 75. O rio Tocantins é formado a partir da junção dos rios Almas e Maranhão, cujas cabeceiras estão localizadas:**
- a) Planalto goiano.
 - b) Planalto de Mato Grosso.
 - c) Na divisa de Goiás e Mato Grosso.
 - d) Na serra dos Caiapós.
 - e) Na divisa de Goiás e Bahia.
- 76. Analisando os aspectos hidrográficos do Estado do Tocantins, marque V ou F:**
- () No Estado do Tocantins encontra-se a bacia Tocantins Araguaia, a maior bacia hidrográfica 100% brasileira.
 - () Ao longo do rio Araguaia encontra-se a Ilha do Bananal, formada pela bifurcação deste rio, situando-se no mesmo o Parque Nacional do Araguaia.
 - () O rio Tocantins nasce em Goiás e tem sua foz próxima à foz do rio Amazonas, ao redor da ilha de Marajó.
 - () Os rios Araguaia e Tocantins são totalmente navegáveis durante todo o ano, o que justifica a criação da hidrovia Tocantins-Araguaia.
- 77. Não é afluente do rio Tocantins:**
- a) Manoel Alves.
 - b) Balsas.
 - c) Manoel Alves Pequeno.
 - d) Paranã.
 - e) Coco.
- 78. São portos fluviais do rio Tocantins, exceto:**
- a) Tocantinópolis.
 - b) Peixe.
 - c) Pedro Afonso.
 - d) Xambioá.
 - e) Porto Nacional.
- 79. A construção de uma hidrovia no Araguaia encontra um sério obstáculo nos ambientalistas devido:**
- a) Ao fato do rio ser muito raso e o afundamento de sua calha condenaria todo o seu ecossistema;
 - b) Ao seu débito fluvial ser muito alto no Tocantins, exigindo altos investimentos em obras de contenção;
 - c) Seu curso ser muito sinuoso, provocando um maior gasto com combustível do que o normal;
 - d) As comunidades ribeirinhas viverem da pesca e o barulho das chatas e barcaças espantar os peixes;
 - e) O perigo do derramamento de cargas tóxicas no rio, que com sua pouca vazão, demoraria muito a se recuperar.

- 80. Analisando os aspectos hidrográficos do Estado do Tocantins, é correto afirmar que:**
- () A bacia Tocantins Araguaia ocupa cerca de 10% do país, aproximadamente 800 mil km².
 - () Ao longo do rio Araguaia encontra-se a Ilha do Bananal, formada pela bifurcação do rio Araguaia, onde se situa o Parque Nacional do Araguaia e os indígenas Krahô e Javaé.
 - () O rio Tocantins nasce em Goiás e deságua na foz do Amazonas. Possui cerca de 1.710 quilômetros de extensão.
 - () Os rios Tocantins e Araguaia são de planalto e planície, respectivamente.

TESTE SEUS CONHECIMENTOS

81. Sobre os O Tocantins é um Estado que se destaca em aspectos hidrográficos existentes no Estado, julgue os itens a seguir (V ou F).

- () 1. O rio Tocantins tem sua extensão oficial de 1.710km, a partir do encontro dos rios Almas e Maranhão até a sua foz, ao redor da ilha de Marajó.
- () 2. O rio Araguaia é um rio de planície, fato que desfavorece a instalação de usinas hidrelétricas em seu leito.
- () 3. No que se refere à subdivisão do rio Tocantins, o alto Tocantins corresponde a partir do trecho que envolve a sua nascente até Lajeado, em Tocantins.
- () 4. A ilha do Bananal é a maior ilha fluvial do globo e a mesma é limite natural entre os Estados de Tocantins, Goiás, Mato Grosso e Pará.
- () 5. Os rios Sono, Javaés e Coco são afluentes do rio Araguaia.
- () 6. Xambioá, Caseara e Araguatins são portos fluviais do rio Araguaia.
- () 7. Itaguatins, Tocantinópolis e Pedro Afonso são portos fluviais do rio Tocantins.
- () 8. Dentre os municípios de Peixe, Porto Nacional e Pedro Afonso, aquele de maior altitude é a cidade de Porto Nacional.
- () 9. Os rios Santo Antônio e Santa Teresa são afluentes na margem esquerda do rio Tocantins.
- () 10. Esperantina é o município em que ocorre o encontro das águas dos rios Tocantins e Araguaia, no bico do Papagaio.
- () 11. O rio Araguaia nasce na serra dos Carajás, divisa de Goiás e Mato Grosso, e possui uma extensão oficial de 2.115km.
- () 12. A ilha do Bananal é circundada pelo rio Araguaia na margem direita e pelo rio Javaés em sua margem esquerda.
- () 13. O principal afluente do rio Tocantins é o rio Araguaia, localizado em sua margem esquerda.
- () 14. A extensão do rio Tocantins, se considerarmos a partir da nascente do rio Maranhão, será de aproximadamente 2.400km.
- () 15. A nascente do rio Tocantins ocorre próxima a Brasília.
- () 16. O rio Tocantins, quando passa na região central do Estado, é cercado pelas serras do Carmo à direita e Estrondo, à esquerda.
- () 17. Os rios Tocantins e Araguaia são de planalto e planície, respectivamente.
- () 18. As duas maiores usinas hidrelétricas no Estado de Tocantins são: Lajeado e Tucuruí.
- () 19. A UHE de Isamu Ikeda, segunda maior em produção de energia no Estado, se encontra no rio Balsas, município de Monte do Carmo.
- () 20. A cachoeira do Roncador, no distrito de Taquaruçu, é a maior do Estado.
- () 21. O rio Azuis é o menor em extensão do Brasil e o mesmo se encontra no município de Aurora do Tocantins.
- () 22. As águas que descem a cachoeira da Velha, no Jalapão, pertencem ao Rio Novo.
- () 23. O rio Maranhão nasce a aproximadamente 60km de Brasília, 1100m de altitude, na serra Geral.
- () 24. Os rios Tocantins e Araguaia são considerados rios perenes e de regime pluvial.
- () 25. A usina hidrelétrica de Estreito iniciou sua construção em 2007, em função da necessidade de energia pelo crescimento industrial na região sul do Maranhão.
- () 26. O PRODECER II se encontra entre os rios Tocantins e Sono, no município de Pedro Afonso.

ATRATIVOS TURÍSTICOS

82. O Estado de Tocantins é riquíssimo em belezas naturais que poderiam ser melhor exploradas para o ecoturismo, fazendo assim gerar renda para o Estado e principalmente para a população local. Sobre o assunto, marque a alternativa incorreta.

- a) A região de Cantão encontra-se no vale do rio Araguaia e possui uma biodiversidade enorme por ser local de encontro de três ecossistemas, o pantanoso, amazônico e o cerrado.
- b) O único Parque Nacional que se encontra em Tocantins é o Parque Nacional do Araguaia e o mesmo envolve parte norte da ilha do Bananal, na região sudoeste do Estado.
- c) A região do Jalapão, bastante castigado com queimadas, é um dos mais belos cartões postais de Tocantins e encontra-se na porção oriental do Estado.
- d) A ilha do Bananal encontra-se em área de planície e é classificada como a maior ilha fluvial do globo.
- e) Entre as praias que atraem milhares de turistas anualmente às cidades ribeirinhas dos rios Tocantins e Araguaia, destacam-se: Peixe, Porto Nacional e Miracema no rio Tocantins e Caseara, Araguacema e Xambioá no rio Araguaia.

83. Encontram-se em seus municípios fontes de águas termais ainda praticamente intactas. As fontes termais existentes em Tocantins encontram-se principalmente nos municípios de:

- a) Paranã e Jaú do Tocantins.
- b) Paraíso do Tocantins e Lizarda
- c) Gurupi e Colinas.
- d) Natividade e Palmeirópolis.
- e) Pedro Afonso e Lagoa da Confusão.

84. A Ilha do Bananal:

- a) Está totalmente dentro do território tocaninense.
- b) Está dividida entre Mato Grosso e Tocantins.
- c) Está dividida entre Mato Grosso, Pará e Tocantins.
- d) Está totalmente no Mato Grosso e faz fronteira com o Tocantins.
- e) Está dividida entre o Pará e o Mato Grosso e faz fronteira com o Tocantins.

QUESTÕES COPESE – UFT

85. (COPESE 2009). Localizado em uma área de 89.150 hectares o parque está localizado na porção ocidental do estado do Tocantins, cuja área é banhada pelos rios Araguaia, Coco e Javaés. Seu interior é formado por ilhas, lagoas, canais e matas alagadas de várzea. Foi criado pela Lei Estadual nº 996 de 14 de julho de 1998, posteriormente alterada pela Lei Estadual nº 1.319 de 04 de abril de 2002. Trata-se:

- (A) Da Estação Ecológica da Serra Geral do Tocantins.
- (B) Do Parque Estadual do Cantão.
- (C) Da APA Lago de Peixe Angical.
- (D) Do Parque Estadual do Lajeado.

86. (Copese 2009) No estado do Tocantins existem, de acordo com o Instituto do Patrimônio Histórico e Artístico Nacional (IPHAN, 2008), 15 comunidades quilombolas que compreendem o patrimônio cultural do estado. Estas comunidades possuem características culturais próprias que permitem distingui-las umas das outras e de toda a sociedade circundante, e ainda estabelecem um sentimento de pertencimento à terra na qual estão instaladas e também onde suas raízes culturais foram constituídas. São exemplos de comunidades quilombolas no estado do Tocantins:

- (A) Povoado do Prata, Mumbuca e Divino Eterno.
- (B) São Joaquim, Córrego Fundo e Menino Deus.
- (C) Malhadinha, Lagoa da Confusão e Redenção.
- (D) Lagoa da Pedra, Laginha e Morro de São João.

87. (Copese 2009) outros cresceram muito rápido, de forma surpreendente, impulsionados pela base migratória originada em virtude da região ser acampamento durante o processo de construção. Foi o caso de Araguaína e Gurupi, emancipados antes mesmo da inauguração da obra, ainda em 1959; além de Wanderlândia, Colinas, Guaraí, Miranorte, Presidente Kennedy, Paraíso, Fátima e Alvorada, que foram emancipados na década de 1960". O texto refere-se à:

- (A) BR 153.
- (B) BR 010.
- (C) BR 226.
- (D) BR 369.

88. (Copese 2009) desenvolveu importante trabalho no processo de construção da BR-153, no trecho Belém- Brasília, incentivando o povoamento do norte tocantinense. Embora nascido no estado do Rio de Janeiro, foi vice-governador do estado de Goiás e é lembrado em muitos municípios tocantinenses em nomes de ruas, bairros e colégios. O texto refere-se a:

- (A) Siqueira Campos.
- (B) Joaquim Teotônio Segurado.
- (C) Jaime Câmara.
- (D) Bernardo Sayão.

89. (Copese 2009) O Alvará de 18 de março de 1809 tinha por finalidade:

- (A) Criar a comarca de Natividade.
- (B) Criar a Comarca de Porto Real.
- (C) Criar a Comarca de Arraias.
- (D) Criar a comarca de São João das Duas Barras.

90. (Copese 2009) Símbolo do Estado do Tocantins criado pela Lei nº 94/89, de 17 de novembro de 1989:

- (A) Brasão ou Selo.
- (B) Bandeira.
- (C) Hino Oficial.
- (D) Hino Popular

91. (Copese 2009) A cor azul deste símbolo representa o elemento água existente no estado, sobretudo pela presença de dois grandes rios: Araguaia e Tocantins. A cor branca, ao centro, representa a paz. A faixa amarela significa o rico solo tocantinense. O sol tem o significado do sonho de emancipação do estado do Tocantins. Este símbolo foi instituído pela Lei nº 92/89 de 17 de novembro de 1989.

É CORRETO afirmar que trata-se:

- (A) da Bandeira.
- (B) do Palácio Araguaia.
- (C) do Brasão ou Selo.
- (D) da Praça dos Girassóis.

92. (Copese 2009) Com uma extensão de 2.114km, possui sua nascente na Serra dos Caiapós, na divisa do estado de Goiás com o estado do Mato Grosso. Este rio atua como divisor natural do estado do Tocantins com os estados do Pará e de Mato Grosso. Trata-se:

- (A) do rio Araguaia.
- (B) do rio Tocantins.
- (C) do rio Lontra.
- (D) do rio São Francisco.

93. (Copese 2009) O município com maior área territorial do estado do Tocantins, segundo o Instituto Brasileiro de Geografia e Estatística (IBGE), com 13.423,256 km² correspondente a 4,84% da área total do estado é:

- (A) Palmas.
- (B) Lagoa da Confusão.
- (C) Araguaína.
- (D) Formoso do Araguaia.

94. (Copese 2009) “Estreita e alongada faixa de terra disposta no sentido norte-sul, representada pela Serra Geral (também conhecida como Espigão Mestre), composta por vasto chapadão arenítico que acompanha quase toda a fronteira leste, na região limítrofe com a Bahia”. A descrição acima refere-se a uma das Unidades Geomorfológicas que compõem o relevo tocaninense.

Marque a alternativa CORRETA que corresponde a esta Unidade do Relevo.

- (A) Planície do Bananal.
- (B) Depressão do Araguaia.
- (C) Depressão Sertaneja.
- (D) Chapada da Bacia do São Francisco.

95. (Copese 2009) Considere as três atividades econômicas desenvolvidas na região que constitui o estado do Tocantins em diferentes momentos históricos, abaixo:

I. Mineração de Ouro

II. Agropecuária-Navegação

III. Cristal de Rocha

Assinale a alternativa CORRETA que indique o nome de uma cidade que se formou em cada atividade econômica elucidada acima, respectivamente:

- (A) (I) Formoso; (II) Conceição; (III) Paraíso.
- (B) (I) Alvorada; (II) Xambioá; (III) Monte do Carmo.
- (C) (I) Natividade; (II) Tocantinópolis; (III) Pium.
- (D) (I) Araguaína; (II) Araguaçu; (III) Araguaatins.

96. (Copese 2009) Sabe-se que o sistema hidrográfico do estado do Tocantins é composto por duas grandes bacias hidrográficas que percorrem todo o território estadual. De acordo com o enunciado é CORRETO afirmar que:

- (A) A bacia composta pelo rio Araguaia é a que apresenta maior importância pois representa mais de 75% do total do estado.
- (B) A bacia do rio Tocantins abrange uma área total de 173.429,9 km², representando cerca de 62,3% do total do estado, fato este que se justifica porque o rio Tocantins sempre corre pelo lado oeste do estado.
- (C) O rio Araguaia deságua no Tocantins, na região do Bico do Papagaio. O Tocantins por sua vez segue seu rumo até desembocar no Oceano Pacífico nas proximidades do Amapá.
- (D) O rio Araguaia após percorrer toda a porção ocidental do estado encontra-se com o rio Tocantins na região do Bico do Papagaio.

97. (Copese 2009) A construção da rodovia Belém-Brasília (BR-153) é resultado das políticas de integração territorial implementadas pelo então presidente Juscelino Kubitschek. Tal rodovia influenciou o crescimento econômico de várias cidades do estado do Tocantins. Sobre esta questão é CORRETO afirmar que:

- (A) A cidade de Palmas beneficiou-se, em larga medida, com a construção da Belém-Brasília, uma vez que registrou-se um aumento significativo das atividades econômicas bem como de sua população.
- (B) Na verdade, apenas as cidades que margeavam os rios Araguaia e Tocantins, foram as maiores beneficiadas após a construção da BR-153.
- (C) A cidade de Araguaína apresentou um forte incremento em seu processo de urbanização após a construção da rodovia Belém-Brasília.
- (D) Pode-se dizer também, que Tocantinópolis registrou um aumento significativo de suas atividades econômicas, bem como de seus índices populacionais após a implantação da BR-153.

98. (Copese 2009) De acordo com a divisão político- administrativa o estado do Tocantins possui 139 municípios em uma área aproximada de 277.620 km², estendendo-se no sentido norte-sul com 899,5km e de leste a oeste com uma extensão total de 515,4 km. De acordo com o exposto é CORRETO afirmar que:

- (A) Os estados da Bahia, Maranhão e Piauí fazem divisa com o Tocantins em sua porção centro-ocidental.
- (B) Os estados de Goiás, Pará, Mato Grosso e Maranhão fazem divisa com o Tocantins na porção leste.
- (C) O território tocantinense apresenta maiores extensões no sentido norte-sul, principalmente na área que faz divisa com a Bahia.
- (D) Os estados do Maranhão, Pará, Mato Grosso, Goiás, Piauí e Bahia fazem divisa com o Tocantins.

99. (Copese 2009) No território tocantinense o Cerrado é o domínio vegetal mais representativo, pois abrange mais de 80% da cobertura vegetal do estado. Este é também o ecossistema que tem mais sofrido os impactos causados pelas ações do homem.

Sobre o Cerrado é CORRETO dizer que:

- (A) O Cerrado apresenta como principais características árvores baixas, muito concentradas, as raízes são, em sua maioria, superficiais, o solo é muito rico em nutrientes, evidenciando que não há necessidade de correção de acidez.
- (B) As árvores do Cerrado são relativamente pequenas, esparsas, com troncos e galhos retorcidos e tortuosos, as raízes são, em sua maioria, profundas.
- (C) Caracteriza-se por apresentar árvores muito altas, distribuídas regularmente, apresentando uma grande semelhança com a Mata Atlântica e a Floresta Equatorial Amazônica.
- (D) O Cerrado no Tocantins ainda está muito bem preservado, pois a cultura da soja, a pecuária, dentre outras atividades econômicas agrícolas têm sido conduzidas pelo desenvolvimento sustentável.

100. (Copese 2009) Sobre as regiões administrativas do estado do Tocantins, podemos afirmar que:

- (A) Foram criadas pela Lei nº 972, de 14 de abril de 1998, e constituem-se num total de 18 (dezoito) regiões, embora a lei autorizasse a instalação de até 21 (vinte e uma), envolvendo todos os municípios do estado organizadas pelo Instituto Brasileiro de Geografia e Estatística (IBGE).
- (B) Foram criadas pela Lei nº 972, de 14 de abril de 1998, e constituem-se num total de 18 (dezoito) regiões, embora a lei autorizasse a instalação de até 21 (vinte e uma), envolvendo todos os municípios do estado. A maior delas é a Região VII, de Palmas, com 14 municípios.
- (C) Foram criadas pela Lei nº 972, de 14 de abril de 1998, e constituem-se num total de 18 (dezoito) regiões, embora a lei autorizasse a instalação de até 21 (vinte e uma), envolvendo todos os municípios do estado organizadas pela Secretaria de Estado de Planejamento (SEPLAN).
- (D) Foram criadas pela Lei nº 972, de 14 de abril de 1998, e constituem-se num total de 18 (dezoito) regiões, embora a lei autorizasse a instalação de até 21 (vinte e uma), envolvendo todos os municípios do estado organizadas pelo Instituto Brasileiro de Geografia e Estatística (IBGE) e a maior delas é a Região XI, de Paraíso do Tocantins, com 14 municípios.

101. (UFT – 2010) A ocupação do espaço geográfico no estado do Tocantins deveu-se a vários fatores que em grande parte coexistiram cronologicamente. Dentre eles, destacaram-se com mais vigor os fatores econômicos. Assim, podemos afirmar que o referido processo de ocupação se deu inicialmente através das seguintes atividades:

- (A) A criacionista e extrativista no Norte e a mineira escravista no Sudeste do Estado.
- (B) A plantação de algodão na região de Gurupi através do projeto Formoso.
- (C) As minas de ouro no Norte e a plantação de arroz no Sul.
- (D) O PRODECER II e a extração de caucho na região de Pedro Afonso.
- (E) A formação dos currais no Centro Sul do estado.

QUESTÕES GEOGRAFIA DO TOCANTINS

102. O Tocantins é um dos estados mais novos da federação. Com base em seus conhecimentos sobre a geografia e história regional, marque a alternativa correta.

- a) Em 1988 foram criados 3 Estados, porém o Tocantins foi o único criado a partir da divisão de um Estado já existente.
- b) Na constituição de 1988 apenas um Estado foi criado, o que torna o Tocantins o mais novo Estado da federação.
- c) As bacias Tocantins e Araguaia são de grande importância econômica para o Estado, porém são rios intermitentes.
- d) A ilha do Bananal é pertencente aos estados do Tocantins e Mato Grosso.
- e) o ciclo da mineração do ouro se iniciou no século XVII no antigo norte goiano, se estendendo de forma intensa até meados do século XVIII.

103. Os Brasões de armas, assim como a Bandeira e o Hino, representam a identidade de um povo. Sobre essa temática leia os enunciados e posteriormente marque a alternativa que apresenta a sequência correta.

I. Além do País, a Constituição Federal faculta aos estados e aos municípios brasileiros, a adoção de símbolos próprios para retratar a história e as características de cada um deles, como os seus costumes, tradições, arte, economia e religião.

II. O Brasão do Estado do Tocantins foi instituído por lei em 1989, e traz vários elementos entre os quais a mensagem CO YVY ORE RETAMA que significa em tupi-guarani "Esta terra é nossa" e um sol de amarelo (ouro) do qual se vê apenas a metade despontando no horizonte contra o azul simbolizando o sonho de emancipação do Estado.

III. A Bandeira do Estado é composta de três cores, elas também têm um simbolismo, no caso do azul representa água, o amarelo o solo e o branco a paz.

IV. A árvore erva-mate, o pássaro quero-quero, a flor brinco- da princesa e o animal cavalo crioulo são os símbolos naturais do Estado do Tocantins.

- a) Nenhuma das afirmativas está correta.
- b) Todas as afirmativas estão corretas.
- c) Apenas as afirmativas I e II estão corretas.
- d) Apenas as afirmativas II e III estão corretas.
- e) Apenas as afirmativas I, II e III estão corretas.

104. Assinale a alternativa correta que identifica todos os estados que fazem divisa com o Tocantins

- a) Pará, Maranhão, Piauí, Mato Grosso do Sul, Bahia e Goiás.
- b) Maranhão, Bahia, Mato Grosso, Goiás e Ceará.
- c) Maranhão, Bahia, Mato Grosso do Sul, Goiás e Pará.
- d) Piauí, Goiás, Bahia, Maranhão, Pará e Mato Grosso.
- e) Maranhão, Bahia, São Paulo e Goiás.

105. Criado em 05 de outubro de 1988, o estado do Tocantins levou a um redesenho da configuração territorial brasileira, o novo estado passava a ter limites geográficos. Assinale a única alternativa que mostra um estado que não faz limite territorial com o Tocantins.

- a) Piauí.
- b) Amazonas.
- c) Pará.
- d) Maranhão.
- e) Bahia.

106. Assinale a alternativa correta:

- a) O Estado do Tocantins faz parte da Região Norte do Brasil.
- b) As cores da bandeira do Tocantins são: branco, azul, amarelo.
- c) O Tocantins foi criado em 5 de outubro de 1988.
- d) O Tocantins pertence a região Norte segundo o IBGE.
- e) Todas estão corretas.

107. O estado do Tocantins tem atualmente:

- a) 139 municípios.
- b) 129 municípios.
- c) 130 municípios.
- d) 126 municípios.

108. É CORRETO afirmar que o Tocantins, o mais novo estado brasileiro, foi criado oficialmente em 1988 pela promulgação:

- a) Do Plano Diretor Federal.
- b) Do Regimento Federativo do Brasil.
- c) Do Ato de Criação dos Estados Brasileiros.
- d) Da reatualização da Carta Magna Nacional.
- e) Da Constituição da República Federativa do Brasil.

109. Localize geograficamente, no Estado do Tocantins, a Ilha do Bananal, Jalapão e Bico do Papagaio e marque a alternativa com a sequência correta.

- a) Sudoeste, Leste e Norte.
- b) Oeste, Norte e Leste.
- c) Sudeste, Nordeste e Norte.
- d) Sudoeste, Centro e Noroeste.
- e) Leste, Centro-Norte e Sul.

110. A ocupação da região ocorreu com a abertura da BR- 153 na década de 1960. A sua ocupação foi impulsionada pela Guerrilha do Araguaia. Posteriormente se tornou foco de intervenção federal com a criação do Grupo Executivo de Terras Araguaia-Tocantins, responsável por promover a regularização fundiária e a ocupação da região. O texto acima refere-se à microrregião:

- a) Bico do Papagaio.
- b) Miracema do Tocantins.
- c) Araguaína.
- d) Rio Formoso.
- e) Gurupi.

111. Classificada como uma das microrregiões do IBGE no Estado do Tocantins, a região é bastante conhecida em todo o Estado pelas suas serras e pelo seu clima relativamente ameno, sendo também chamada de região serrana do Tocantins. Suas principais serras são a Serra Geral e a Serra Traíras (ou das Palmas) que abriga o ponto culminante do Estado. Devido à sua altitude relativamente alta para os padrões do Tocantins, boa parte das cidades da região estão entre as mais altas do Estado. O texto se refere à microrregião de:

- a) Taguatinga.
- b) Arraia.
- c) Paranã.
- d) Dianópolis.
- e) Novo Acordo.

112. Tendo como base o Censo de 2010, a microrregião do IBGE com a menor densidade demográfica do Tocantins é:

- a) Dianópolis.
- b) Gurupi.
- c) Rio Formoso.
- d) Miracema do Tocantins.
- e) Jalapão.

113. A área do Estado do Tocantins, segundo o IBGE, corresponde a 277.620,914 km², o que representa a 3,26% da área total do Brasil. Esta dimensão faz com que o estado ocupe a 10^a posição em extensão territorial superado, em área do maior para o menor, apenas pelos estados do:

- a) Amazonas, Pará, Mato Grosso, Minas Gerais, Bahia, Mato Grosso do sul, Sergipe, Rondônia e Rio Grande do Sul.
- b) Pará, Amazonas, Mato Grosso, Minas Gerais, Bahia, Mato Grosso do sul, Goiás, Maranhão e Rio Grande do Sul.
- c) Amazonas, Pará, Mato Grosso, Minas Gerais, Bahia, Mato Grosso do Sul, Maranhão, Goiás, e Rio Grande do Sul.
- d) Amazonas, Pará, Mato Grosso, Bahia, Minas Gerais, Mato Grosso do sul, Goiás, Maranhão e Rio Grande do Sul.
- e) Amazonas, Pará, Mato Grosso, Minas Gerais, Bahia, Mato Grosso do Sul, Goiás, Maranhão e Rio Grande do Sul

114. Quatro são as regiões geográficas existentes no estado do Tocantins. Aponte a alternativa em que não aparece uma dessas quatro regiões:

- a) Chapada da Bahia do Meio-Norte.
- b) Chapada da Bacia do São Francisco.
- c) Planalto do Tocantins.
- d) Peneplanície do Tocantins
- e) N.D.A.

115. Verão chuvoso e inverno com estiagens prolongadas e temperaturas elevadas, são características do estado do Tocantins. Em relação ao clima do Estado, que classifica como:

- a) Subtropical.
- b) Equatorial.
- c) Temperado.
- d) Subtemperado.
- e) Tropical semi-úmido.

116. O rio Tocantins é o maior rio do Estado e atravessa todo o território Tocantinense. O mesmo surge da confluência dos rios das Almas e Maranhão, sendo que o último nasce aproximadamente a 60 km ao norte de Brasília. A sua extensão até a Ilha do Marajó, quando desemboca no Oceano Atlântico, é de, aproximadamente, 1.710 km, mas contando com o prolongamento do rio Maranhão, a sua extensão chega a cerca de 2.400 km. Essa extensão está dividida em Alto, Médio e Baixo Tocantins. Assim, pode-se considerar que o Alto Tocantins corresponde à extensão:

- a) De sua nascente até a cachoeira do Lajeado, medindo cerca de 1.060 km, com um desnível de 925 metros.
- b) Da Cachoeira de Itaboca até sua foz, numa extensão de 360 km e um desnível de 26 metros.
- c) De Lajeado até a Cachoeira de Itaboca, com 980 km e um desnível de 149 metros.
- d) De sua nascente até a sua foz, com aproximadamente 2.400km.
- e) De Lajeado até a sua foz, com aproximadamente 1.340 km e um desnível de 175 metros.

117. Parque Nacional que encontra-se localizado nas divisas do estado do Tocantins com o Maranhão, Bahia e Piauí. De acordo com o enunciado é CORRETO afirmar que:

- a) Trata-se do Parque Nacional das Nascentes do rio Parnaíba.
- b) O texto refere-se ao Parque do Jalapão.
- c) O enunciado remete-se à APA do Cantão.
- d) O enunciado identifica claramente a APA dos meandros da Bacia do São Francisco na divisa com o estado do Tocantins.
- e) Trata-se da APA do Cana Brava.

118. A Ilha do Bananal é considerada a maior ilha fluvial do mundo. Sobre ela é correto afirmar:

- a) Abrange parte dos municípios de Pium, Lagoa da Confusão, Dueré, Cristalândia e Formoso do Araguaia.
- b) Dividida em duas partes: ao norte, o Parque Nacional do Araguaia – que desde 2007 está sob a administração do Naturatins.
- c) Ao sul, o Parque Indígena do Araguaia, administrado pela FUNAI, onde moram os indígenas Javaé e Khaô-Kanela.
- d) A Ilha é contornada pelos rios Araguaia, à esquerda e o rio Javaé, à direita. No seu interior é cortada por vários mananciais que desaguam no Araguaia.
- e) A Ilha do Bananal foi descoberta em julho de 1773 pelo sertanista Bartolomeu Bueno da Silva, conhecido como Anhanguera, que andava pelas terras de Goiás à procura de indígenas para escravizar.

119. As formas de relevo mais comuns no Brasil são: planície, planalto e depressão. É CORRETO afirmar que, das planícies listadas abaixo, a única localizada no estado do Tocantins é a:

- a) Planície Araguaia.
- b) Planície Litorânea.
- c) Planície Amazônica.
- d) Planalto Litorâneo.
- e) Planície do Pantanal.

120. Assinale a alternativa CORRETA a partir da seguinte afirmação: O estado do Tocantins, na maior parte do seu território é formado por planícies e depressões. O ponto mais elevado do estado do Tocantins, com altitude máxima de 1.340m, encontra-se:

- a) Na serra das Traíras ou da Palma, em Paranã.
- b) Na serra do Lajeado, no município de Palmas.
- c) No morro do Segredo, no município de Lajeado.
- d) Na serra da Jalapinha, no município de Mateiros.
- e) Na serra Grande, no município de São Salvador.

121. Trata-se do ponto de maior altitude do estado do Tocantins:

- a) A serra das Traíras.
- b) A serra do Lajeado.
- c) A serra do Estrondo.
- d) A serra do Carmo.
- e) A serra dos Carajás.

122. Sobre o clima e a vegetação do estado do Tocantins, pode-se afirmar como verdadeira:

- a) Predominância de clima subtropical e vegetação de Cerrado.
- b) Predominância de clima equatorial e Floresta Equatorial ou Amazônica.
- c) Pequena faixa ao norte do Estado, com clima equatorial e vegetação de Floresta Amazônica
- d) Predominância de clima equatorial e vegetação de Cerrado.
- e) N.D.A.

123. Em relação ao clima do estado do Tocantins, é correto afirmar que:

- a) Apresenta características heterogêneas, com grandes variações, principalmente as precipitantes anuais;
- b) Predomina o clima subtropical;
- c) O fator maritimidade e a baixa extensão latitudinal promovem grandes variações climáticas;
- d) Apresenta duas estações bem definidas: a chuvosa, de outubro a abril, e seca, de maio a setembro
- e) Nos meses de chuvas (maio a setembro), as temperaturas médias anuais oscilam entre 28° e 35°.

124. O clima compreende aos diversos fenômenos que ocorrem na atmosfera de um planeta. Identifique a alternativa que indica o clima predominante no Tocantins:

- a) Equatorial.
- b) Equatorial Seco.
- c) Equatorial Úmido.
- d) Subtropical.
- e) Tropical.

125. O estado do Tocantins está sob domínio climático tropical semi-úmido, caracterizado por apresentar uma estação com estiagem aproximada de 4 meses. Entre as alternativas abaixo assinale a incorreta:

- a) As precipitações no estado do Tocantins crescem de Leste para Oeste, com um clima que carrega período de estiagem no inverno, e verão chuvoso.
- b) A bacia hidrográfica do estado do Tocantins está delimitada principalmente pelo rio Araguaia a oeste, e pelo rio Tocantins a leste. Esses rios correm no sentido Sul-Norte e se encontram no extremo norte do estado, na região do Bico do Papagaio.
- c) A Estação Ecológica serra do Lajeado criada por decreto presidencial em 27 de setembro de 2001, localiza-se nos municípios de Almas, Ponte Alta do Tocantins, Conceição e Mateiros, no estado do Tocantins, e Formosa, no estado da Bahia.
- d) Os números referentes às temperaturas e os índices de pluviosidade levam a crer que o estado do Tocantins esteja na zona climática classificada por Koppen como tropical semi-árido.
- e) N.D.A.

126. Considerando os aspectos geográficos e econômicos que caracterizam o estado do Tocantins, assinale a opção correta:

- a) O Tocantins faz divisa com todos os estados da região norte.
- b) O Tocantins está numa área de transição com porções de cerrado e de floresta amazônica.
- c) A maior parte do território tocaninense é coberta pela mata atlântica, que tem no estado sua área mais preservada.
- d) Nascida nos Andes, a bacia dos rios Tocantins e Araguaia corta o território do estado do Tocantins.
- e) Embora economicamente muito forte, a região do cerrado cobre parcela reduzida do território tocaninense.

127. O Tocantins ainda é um vasto território a ser explorado em seus recursos naturais. O coco Babaçu, palmeira nativa e perene no Tocantins, segundo estudos já realizados por pesquisadores constatou-se mais de 100 subprodutos do Babaçu. Marque a única opção que o produto não é de origem do aproveitamento desse vegetal:

- a) Cosméticos.
- b) Carvão Mineral.
- c) Farinha Nutritiva.
- d) Óleo Comestível.
- e) Querosene Vegetal.

128. Sobre a vegetação do estado do Tocantins, assinale o que for incorreto:

- a) Cerrado caracteriza-se por uma vegetação campestre com árvores pequenas e retorcidas e arbustos espalhados. As espécies mais comuns são: babaçu, Pau Brasil e o Pinheiro.
- b) Apresenta uma vegetação variada, com campos, cerrados, campos limpos, floresta equatorial e floresta tropical.
- c) O cerrado é a vegetação que ocupa a maior área no Estado do Tocantins.
- d) A floresta Equatorial aparece ao norte do estado, próximo ao paralelo 5°, acompanha o curso dos rios na forma de mata de galeria.
- e) Campo Sujo é uma variação do cerrado com árvores bem espalhadas pelo campo.

129. Os cerrados são fundamentalmente formações:

- a) Herbáceo.
- b) Hilea.
- c) Herbáceas-arbóreas e herbáceo-arbustivas.
- d) Pradarias.
- e) Estepes.

130. O estado do Tocantins é contemplado com uma vegetação diversificada de manchas remanescentes da floresta amazônica ao cerrado que é a vegetação característica do Estado. Neste contexto, podemos afirmar que todas as alternativas estão corretas, exceto:

- a) A prática agropecuária reduziu as áreas de ocorrências do cerrado no estado do Tocantins, o que pode ocasionar o equilíbrio hidrológico da bacia Tocantins-Araguaia.
- b) As áreas de ocorrência da floresta amazônica ocupam os vales mais úmidos do norte do Tocantins.
- c) O cerrado típico é formado por árvores e arbustos associados a uma vegetação rasteira composta por gramíneas.
- d) As características climáticas e do solo existente no estado do Tocantins são os principais responsáveis pelas variações da vegetação local.
- e) N.D.A.

131. Considerando os aspectos geográficos do estado, assinale a opção correta:

- a) O Tocantins faz divisa com todos os estados da Região Norte.
- b) A maior parte do território tocantinense é coberta pela mata atlântica, que tem no estado sua área mais preservada.
- c) A região do cerrado cobre a maior parcela do território tocantinense.
- d) Nascida nos Andes, a bacia dos rios Tocantins e Araguaia corta o território do estado do Tocantins.
- e) N.D.A.

132. O principal ecossistema do estado do Tocantins é o cerrado, que cobre cerca de 87% de sua área. Além do cerrado, são encontradas outras vegetações no estado, tais como:

- a) Caatinga ou floresta estacional decidual.
- b) Floresta estacional ou caatinga.
- c) Floresta ombrófila ou floresta amazônica.
- d) Floresta ombrófila ou caatinga.
- e) Caatinga ou floresta amazônica.

133. “Localizado no oeste do Estado, numa área de aproximadamente 89 mil hectares, entre os municípios de Cascara e Pium, no extremo norte da Ilha do Bananal, uma região beneficiada com as águas dos rios Araguaia, Coco e Javaés” (Nascimento, 2007). O texto acima refere-se:

- (a) Ao Parque Estadual de Cana Brava.
- (b) Ao Parque Estadual do Jalapão.
- (c) Ao Parque Estadual do Lajeado.
- (d) Ao Lago de São Salvador.
- (e) Ao Parque Estadual do Cantão.

134. A Lei Estadual nº 1.203, de 12 de janeiro de 2001, cria:

- (a) O Parque Estadual do Jalapão.
- (b) O Parque Estadual do Cantão.
- (c) O Parque Estadual do Lajeado.
- (d) O Monumento Natural das Árvores Fossilizadas.
- (e) N.D.A.

135. Localizado em uma área de 89.150 hectares o parque está localizado na porção ocidental do estado do Tocantins, cuja área é banhada pelos rios Araguaia, Coco e Javaés. Seu interior é formado por ilhas, lagoas, canais e matas alagadas de várzea. Foi criado pela Lei Estadual nº 996 de 14 de julho de 1998, posteriormente alterada pela Lei Estadual nº 1.319 de 04 de abril de 2002. Trata-se:

- a) Da Estação Ecológica da Serra Geral do Tocantins.
- b) Do Parque Estadual do Cantão.
- c) Da APA Lago de Peixe Angical.
- d) Do Parque Estadual do Lajeado.
- e) Do Parque Estadual da Serra do Estrondo.

136. Vera vai viajar para Tocantins e, analisando o mapa do estado, constatou que, entre os muitos rios existentes, os dois mais importantes por sua extensão e curso são:

- a) Araguaia e Javaé.
- b) Araguaia e Tocantins.
- c) Caiapó e Balsas.
- d) Palmas e Sono.
- e) Tocantins e Palmas.

137. O estado do Tocantins é banhado por dois sistemas hidrográficos: do rio Araguaia e do rio Tocantins. Assinale a alternativa cujas bacias hidrográficas NÃO pertencem ao sistema hidrográfico do rio Tocantins:

- a) Bacias do rio Manuel Alves Grande e do rio Manoel Alves Pequeno.
- b) Bacias do rio Santa Teresa e do rio Paranã.
- c) Bacias do rio Lajeado e do rio Lontra.
- d) Bacias do rio Manoel Alves e rio Santo Antônio.
- e) Bacias do rio Sono e do rio das Balsas.

138. Nasce em Goiás, ao norte da cidade de Brasília, se dirige para a parte do norte do País, desaguando na Baía de Marajó. É o principal formador da maior bacia hidrográfica totalmente brasileira. O texto fala do rio:

- a) Tocantins.
- b) Tapajós.
- c) Bananal.
- d) Araguaia.
- e) Roncador.
- f) N.D.A.

139. O estado do Tocantins possui uma hidrografia bastante significativa, sendo uma das bacias hidrográficas mais importantes do Brasil. Baseado neste contexto identifique os principais rios do Estado:

- a) Amazonas, Tocantins, São Francisco e Parnaíba.
- b) São Francisco, Peixe e Araguaia.
- c) Paranã, Tocantins, do Coco, Balsas e Manoel Alves.
- d) Araguaia, Manoel Alves; Balsas, Paranã, Sono e Tocantins.
- e) Araguaia, Paraná e São Francisco.

140. No estado do Tocantins está localizada a maior bacia hidrográfica totalmente brasileira formada pelos rios Tocantins e Araguaia. Temos como afluentes do rio Tocantins, os rios:

- a) Manoel Alves Grande, Tocantins, Sono e Douradinho.
- b) Crixás, Santo Antonio, Tocantins e dos Bois.
- c) Manoel Alves Grande, Sono e Paranã.
- d) Tocantins, Sono, Santa Tereza, Araguaia, Cana-Brava, Tocantins e Cristalino.
- e) Paraná, Tocantins, São Gabriel e Manoel Alves.

141. A bacia do Tocantins é uma das mais extensas do sistema hidrográfico brasileiro. O rio Tocantins percorre um longo caminho, desde o seu nascimento até sua desembocadura. Selecione a alternativa que descreve este caminho:

- a) O rio Tocantins nasce entre as serras da Bodoqueira e Maranhão, recebe o rio das Almas e passa a se chamar Tocantins.
- b) O rio Tocantins nasce entre as serras da Biboca e Parreirão, recebe o rio das Almas e passa a se chamar Tocantins.
- c) O rio Tocantins nasce com o nome de rio Maranhão, a partir da confluência com o rio das Almas passa a se chamar Tocantins.
- d) O rio Tocantins nasce entre as serras da Bodoqueira e Maranhão, recebe o rio Paranã e passa a se chamar Tocantins.
- e) O rio Tocantins nasce no município de Planaltina-GO entre as serras da Biboca e Minhocão, recebe o rio Palmas e passa a se chamar Tocantins.

142. Quase todos os rios existentes no estado do Tocantins estão classificados como rios perenes (que não secam). Isso faz com que o estado do Tocantins seja considerado um dos 5 estados mais ricos em recursos hídricos do país, em razão dos rios Araguaia e Tocantins e os seus afluentes, que integram a bacia Araguaia- Tocantins, drenando aproximadamente:

- a) 1.067 mil km², representando 20% do território nacional.
- b) 1.025 mil km², representando 18% do território nacional.
- c) 998 mil km², representando 15% do território nacional.
- d) 967 mil km², representando 11% do território nacional.
- e) 1.010 mil km², representando 17% do território nacional.

143. O estado do Tocantins é considerado um dos cinco estados mais ricos em recursos hídricos do País, graças aos rios Araguaia e Tocantins e seus afluentes. (Conhecendo o Tocantins: História e Geografia, 3ª edição - Pág. 47). Sobre a hidrografia do Tocantins pode-se considerar como única alternativa certa:

- a) O maior rio do estado é o rio Tocantins, que tem como afluente os rios Paranã, Palma, Sono e Balsas entre tantos.
- b) Os rios que fazem parte da bacia Araguaia-Tocantins e da bacia platina cortam o território tocaninense banhando inúmeras cidades do Estado.
- c) O rio Araguaia juntamente com rio Javaés forma a ilha do Bananal, considerada a maior ilha fluvial do mundo, localizada a leste, divisa com os estados da Bahia e Maranhão.
- d) O rio Araguaia é considerado como rio de Planalto, tanto que em curso estão projetadas as construções de inúmeras cachoeiras, entre as quais Peixe/ Angical, Ipueiras e a do Estreito.
- e) N.D.A.

144. O rio Araguaia, apresenta em suas águas a confluência de dois rios, também importantes para o cenário turístico, nomeados:

- a) Cristalino e Água Feia.
- b) Crixá e Verde.
- c) Formoso e Douradinho.
- d) Javaés e Coco.
- e) Piranhas e Vermelho.

145. No Tocantins, ainda encontramos grandes comunidades indígenas. Um desses grupos, vive da agricultura, da caça, da coleta de babaçu, do qual subtraem o óleo das suas amêndoas e usam a palha para coberta de suas casas e feitura de utensílios domésticos. Cultuam os mortos (PARKAPE) e fazem festa para separar o espírito do corpo (MÉKAPRI) e residem no norte do estado. A citação faz referências:

- a) Ao povo Iny (Karajá, Xambioá, Javaé).
- b) Aos Xerentes.
- c) Aos Krahô.
- d) Aos Apinajés.
- e) ao povo Xerente.

146. No estado do Tocantins existem, de acordo com o Instituto do Patrimônio Histórico e Artístico Nacional (IPHAN, 2008), 15 comunidades quilombolas que compreendem o patrimônio cultural do estado. Estas comunidades possuem características culturais próprias que permitem distingui-las umas das outras e de toda a sociedade circundante, e ainda estabelecem um sentimento de pertencimento à terra na qual estão instaladas e também onde suas raízes culturais foram constituídas. São exemplos de comunidades quilombolas no estado do Tocantins:

- (a) Povoado do Prata, Mumbuca e Divino Eterno.
- (b) São Joaquim, Córrego Fundo e Menino Deus.
- (c) Malhadinha, Lagoa da Confusão e Redenção.
- (d) Lagoa da Pedra, Laginha e Morro de São João.
- (e) Todas as alternativas.

147. De acordo com as características da rede urbana tocantinense, é correto afirmar, exceto que:

- a) A cidade de Porto Nacional é o mais importante centro urbano do estado do Tocantins, superada pela capital: Palmas.
- b) A rede urbana tocantinense caracteriza-se pela dispersão das cidades pelo território, sendo o trecho da Rodovia Belém-Brasília a área de maior adensamento de cidades.
- c) As principais cidades do estado do Tocantins, além da capital, são: Araguaína, ao norte; Gurupi, ao sul; e Porto Nacional, na parte central.
- d) A área de influência econômica de Palmas, capital, é muito pequena, o que contribui para a integração insatisfatória das cidades tocantinenses.

148- Sobre o potencial turístico no estado do Tocantins, assinale a alternativa correta.

- (a) Apresenta rios piscosos e de águas mansas, mas, devido ao relevo de planície, não ocorrem quedas d'água ou cachoeiras, dentro do território do Estado.
- (b) A ilha do Bananal tem grande potencial turístico, mas, devido à violência dos indígenas, a região não desenvolveu esse setor da economia.
- (c) O Parque Estadual do Cantão destaca-se pela beleza de suas praias, lagoas e áreas inundadas, com paisagens vegetais variadas, de cerrados e de exuberantes florestas.
- (d) O Jalapão apresenta uma surpreendente paisagem de desertos de areia e clima semiárido. A ausência de água na região, porém, impede o desenvolvimento do turismo.
- (e) As cidades de Palmas, Tocantinópolis e Natividade apresentam ruínas históricas da época do ciclo do ouro.

149- A respeito dos aspectos demográficos do estado do Tocantins, assinale a afirmativa correta:

- a) Os migrantes que chegam ao Tocantins têm origem exclusivamente no Maranhão e no Pará, estados vizinhos que estimulam as migrações temporárias.
- b) O projeto do governo, que abriu um corredor de passagem para que a população litorânea atinja a Amazônia tem favorecido o povoamento do Tocantins, mesmo não sendo ele estado amazônico.
- c) O crescimento demográfico do Tocantins é bem superior à média nacional, o que pode ser explicado pelas migrações regionais que, a partir de sua criação, se intensificaram em relação àquele Estado
- d) O estado do Tocantins consolidou seu crescimento populacional graças à necessidade de ampliar a ocupação econômica da Amazônia.
- e) Somente os estados interiores, como o do Tocantins, recebem maior quantidade de população em função da necessidade de constituir um mercado consumidor.

150- Sobre a população indígena no estado do Tocantins, é correto afirmar que os:

- a) Apinajés vivem ao sul, na ilha do Bananal e dedicam-se principalmente à pesca, não praticando a agricultura.
- b) Carajás (Karajás) e os Javaés pertencem ao povo Iny e, após muitas migrações, devidas às invasões de seus territórios, acabaram fixando-se na ilha do Bananal.
- c) Povos indígenas do estado do Tocantins são hábeis na pesca, mas desconhecem a agricultura.
- d) Xerentes e os Caiovás são povos indígenas das zonas florestadas e ainda são muito arredios, vivendo da pesca e da coleta de frutos.
- e) Indígenas do Tocantins são hábeis nas artes plumárias e no artesanato em palha, mas desconhecem as artes cerâmicas e não comercializam o que produzem, resguardando apenas o valor cultural do seu artesanato.

GABARITO

1	(D)	39	(E)	77	(E)	115	(E)
2	(D)	40	(D)	78	(D)	116	(A)
3	(E)	41	(A)	79	(A)	117	(A)
4	(A)	42	()	80	(V) (F) (V) (V)	118	(D)
5	(E)	43	(E)	TESTE	RELÂMPAGO	119	(A)
6	(B)	44	(D)	82	(A)	120	(A)
7	(F) (V) (V) (V)	45	(E)	83	(A)	121	(A)
8	(V) (V) (V) (V)	46	(D)	84	(A)	122	(C)
9	(D)	47	(E)	85	(B)	123	(D)
10	(C)	48	(D)	86	(B)	124	(E)
11	(A)	49	(B)	87	(A)	125	(D)
12	(E)	50	(E)	88	(D)	126	(B)
13	(B)	51	(B)	89	(D)	127	(B)
14	(D)	52	(B)	90	(B)	128	(A)
15	(D)	53	(A)	91	(C)	129	(C)
16	(C)	54	(E)	92	(A)	130	(A)
17	(C)	55	(E)	93	(D)	131	(C)
18	(A)	56	(C)	94	(D)	132	(C)
19	(C)	57	(A)	95	(C)	133	(E)
20	(D)	58	(B)	96	(D)	134	(A)
21	(D)	59	(B)	97	(C)	135	(B)
22	(E)	60	(B)	98	(D)	136	(B)
23	(C)	61	(C)	99	(B)	137	(C)
24	(E)	62	(C)	100	(C)	138	(A)
25	(B)	63	(B)	101	(A)	139	(D)
26	(C)	64	(B)	102	(A)	140	(C)
27	(V) (F) (V) (F) (V)	65	(A)	103	(E)	141	(C)
28	(D)	66	(B)	104	(D)	142	(D)
29	(V) (V) (V) (V)	67	(B)	105	(B)	143	(A)
30	(B)	68	(B)	106	(E)	144	(D)
31	(C)	69	(D)	107	(A)	145	(D)
32	(F) (F) (V)	70	(C)	108	(D)	146	(D)
33	(A)	71	(V) (V) (V) (F)	109	(A)	147	(A)
34	(F) (V) (V) (V)	72	(D)	110	(C)	148	(C)
35	(V) (V) (V) (V) (V) (V)	73	(C)	111	(D)	149	(C)
36	(B)	74	(E)	112	(E)	150	(B)
37	(D)	75	(A)	113	(E)		
38	(F) (V) (F) (F)	76	(V) (V) (V) (F)	114	(D)		
TESTE RELÂMPAGO							
42-	1.(F) 2.(F) 3.(V) 4.(V) 5.(F)			81-	1.(V) 2.(V) 3.(V) 4.(V) 5.(F)		
	6.(V) 7.(F) 8.(V) 9.(V) 10.(V)				6.(V) 7.(V) 8.(F) 9.(V) 10.(V)		

	11.(V) 12.(V) 13.(V) 14.(F) 15.(V)			11.(F) 12.(F) 13.(V) 14.(V) 15.(V)
	16.(F) 17.(F) 18.(F) 19.(V) 20.(V)			16.(V) 17.(V) 18.(F) 19.(F) 20.(F)
				21.(V) 22.(V) 23.(F) 24.(V) 25.(F) 26.(F)

PROFESSOR
JÚNIOR GEO
Deputado Estadual



@prof_juniorgео



professorjrgeo@gmail.com



www.professorjuniorgео.com.br